

I. Espacio Geográfico

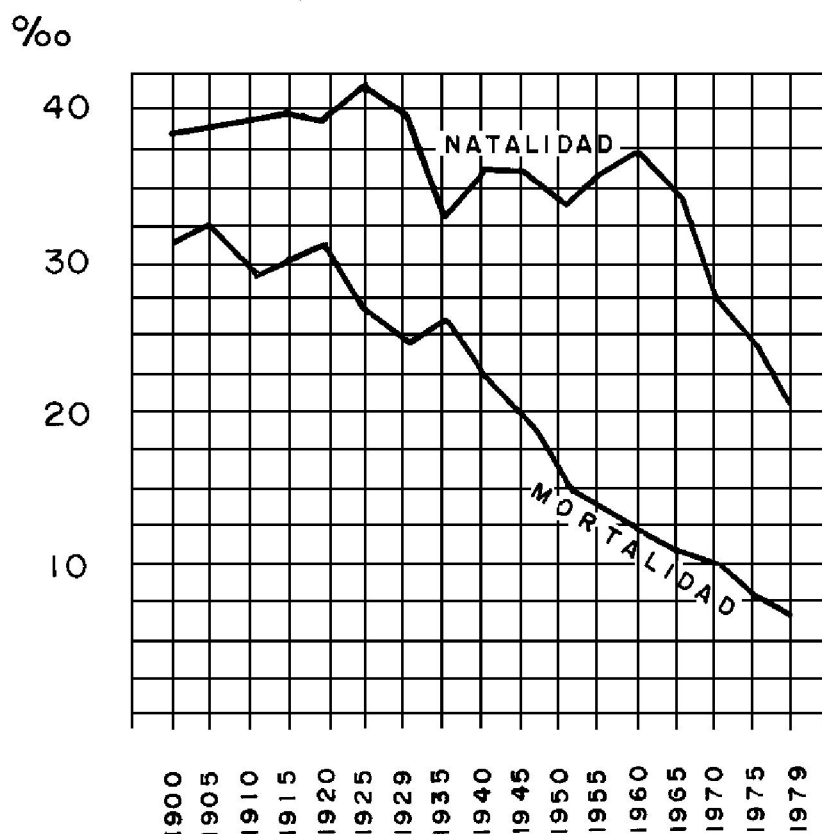
Control de Materia N° 2 Geografía de la Población

1. La población en Chile se distribuye preferentemente en zonas ecúmenes, y en menor proporción en zonas anecúmenes. En relación a esta distribución en nuestro país, podemos afirmar que
 - I. El asentamiento humano ocurre mayoritariamente en climas templados.
 - II. Las concentraciones de población se encuentran en alturas cercanas a los 3500 metros de altura sobre el nivel del mar.
 - III. Desde los inicios de la ocupación humana en Chile se ha privilegiado la cercanía de los recursos hídricos.
 - A) Solo III
 - B) Solo I y II
 - C) Solo I y III
 - D) Solo II y III
 - E) I, II y III

2. "Ciencia social que estudia la composición, distribución y evolución de la población humana. Este análisis generalmente se realiza desde el punto de vista cuantitativo". Tal disciplina corresponde al concepto de
 - A) Geografía
 - B) Demografía
 - C) Estadística
 - D) Ciencias Políticas
 - E) Sociología

3. La dinámica demográfica experimentada por nuestro país, se ha expresado no solo en las variaciones del ritmo de crecimiento de la población, sino que lo ha hecho también sobre su composición. En relación con lo anterior, entre los impactos de la estructura de edades de la población destaca(n):
 - I. El incremento de la esperanza de vida de los hombres respecto de las mujeres.
 - II. La disminución del porcentaje de población en el grupo muy joven.
 - III. El aumento de la proporción de población adulto mayor.
 - A) Solo I
 - B) Solo II
 - C) Solo I y II
 - D) Solo I y III
 - E) Solo II y III

CHILE: EVOLUCIÓN TASAS DE NATALIDAD Y MORTALIDAD
1900 – 1979



(INE 1900-1979)

4. De la figura adjunta que muestra la evolución de las tasas de natalidad y mortalidad de la población chilena, entre los años 1900 y 1979, se puede concluir que la tasa de crecimiento vegetativo más alta se alcanzó en el año
- 1960
 - 1935
 - 1925
 - 1920
 - 1905
5. ¿Qué ocurriría, probablemente, en un país con alta tasa de natalidad y baja tasa de mortalidad?
- Disminuirá la población rural.
 - Aumentará la población femenina.
 - Aumentará el crecimiento de la población.
 - Disminuirá la población anciana.
 - Se mantendrá la población sin mayores variaciones.

6. Hoy en día las migraciones son una característica relevante dentro del comportamiento demográfico mundial. Éstas pueden tener diversas motivaciones, dentro de las cuales podríamos destacar:

- I. La violencia generada tanto dentro de las fronteras del país como por guerras o ataques externos.
- II. La mayor posibilidad de acceso a mejores servicios, bienes y/o posibilidades laborales.
- III. La proliferación de reformas agrarias, sobre todo, en los espacios americanos.

- A) Sólo II
- B) Sólo III
- C) Solo I y II
- D) Solo II y III
- E) I, II y III

	POBLACIÓN TOTAL (MILLONES) (2005)	POBLACIÓN PROYECCIÓN (MILLONES) (2025)	TASA MEDIA CRECIMIENTO DEMOGRÁFICO % (1995-2000)	% POBLACIÓN URBANA (1995)	TASA CRECIMIENTO POBLACIÓN URBANA (1995-2000)
América del sur	345,8	460,9	1,5	78	2,2
Argentina	37,0	47,2	1,3	88	1,5
Bolivia	8,3	13,1	2,3	61	3,8
Brasil	170,1	217,9	1,3	78	2,3
Chile	15,2	19,5	1,4	84	1,6
Colombia	42,3	59,8	1,9	73	2,2
Ecuador	12,6	17,8	2,0	58	3,1
Paraguay	5,5	9,4	2,6	53	3,8
Perú	25,7	35,5	1,7	72	2,5
Uruguay	3,3	3,9	0,7	90	0,8
Venezuela	24,2	34,8	2,0	93	2,4

7. De los datos demográficos de América del Sur se concluye que:

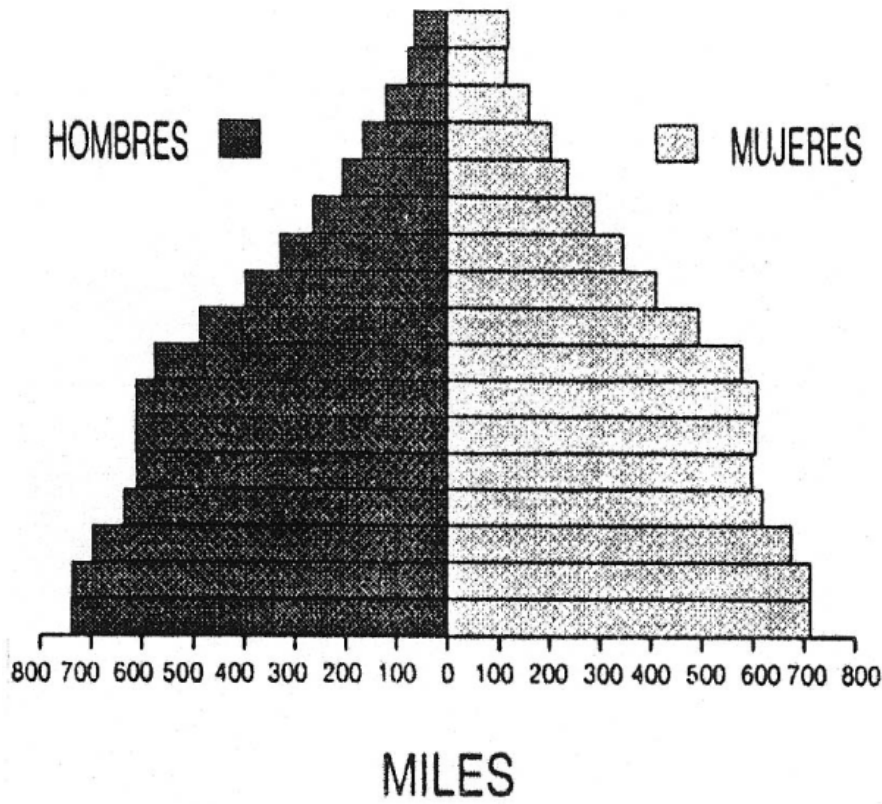
- I. En todos los países hay programas de control de la natalidad.
- II. Uruguay tiene las menores tasas de crecimiento, debido a que tiene poca población.
- III. Los tres países que poseen menos población urbana ostentan, en ese aspecto, las mayores tasas de crecimiento

- A) Solo I
- B) Solo III
- C) Solo I y II
- D) Solo II y III
- E) I, II y III

8. Las bajas tasas de fecundidad se han traducido en un descenso de las tasas de crecimiento de la población en Chile. Esta situación es producto de:

- I. La difusión de prácticas anticonceptivas.
- II. La incorporación creciente de la mujer al trabajo remunerado.
- III. La modificación de los valores con relación al tamaño de la familia.

- A) Sólo I
- B) Sólo II
- C) Sólo III
- D) I y III
- E) I, II y III



9. La Pirámide de la población nos muestra la actual estructura de la población chilena, por edad y por sexo. De acuerdo a ella se puede afirmar que:

- I. La población chilena es mayoritariamente joven.
- II. La población masculina supera ampliamente a la femenina.
- III. En el sector etario senil predominan las mujeres.

- A) Sólo I
- B) Sólo III
- C) Sólo I y II
- D) Sólo II y III
- E) Sólo I y III

10. Observa la siguiente tabla de datos de población de la Región Metropolitana y señala qué afirmación(es) es(son) correcta(s):

Región Metropolitana, Censo 2002			
	Hombres	Mujeres	Índice Masculinidad
Area Urbana	2.838.610	3.036.403	93,5
Area Rural	98.583	87.589	112,5
Total	2.937.193	3.123.992	94

- I. En la región Metropolitana existe mayor población masculina que femenina.
- II. En el área rural de la región Metropolitana existen 112,5 hombres por cada 100 mujeres.
- III. En el área urbana de la región Metropolitana existen 93,5 mujeres por cada 100 hombres.

- A) Sólo II
- B) Sólo III
- C) Sólo I y II
- D) Sólo II y III
- E) I, II y III

11. El promedio de años que le correspondería vivir a un conjunto de recién nacidos, de acuerdo a la distribución de las tasas de mortalidad por edades en un período determinado, corresponde a:

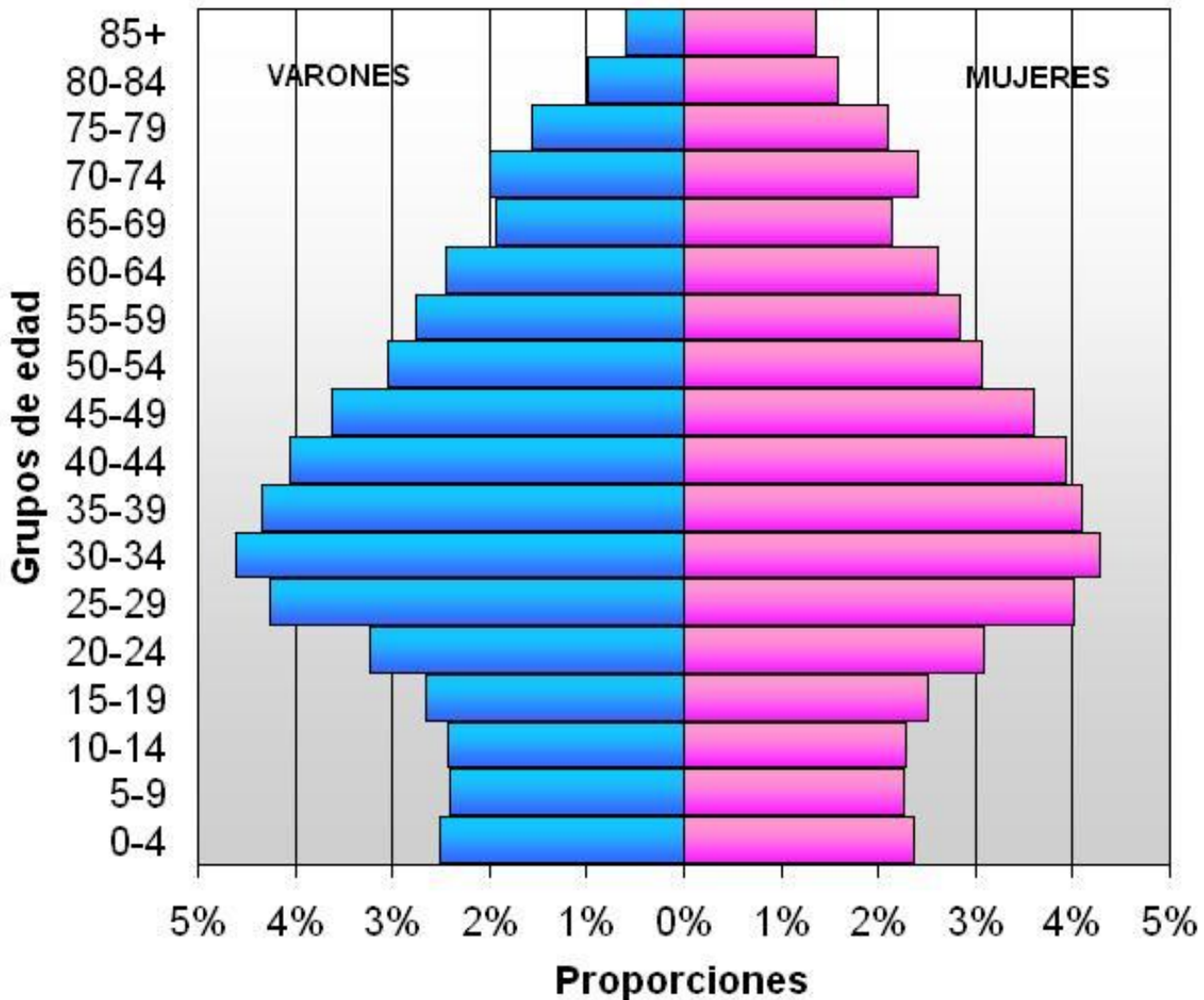
- A) La tasa bruta de mortalidad
- B) La tasa de mortalidad infantil
- C) La esperanza de vida al nacer
- D) La tasa bruta de natalidad
- E) El índice de mortalidad general

12. Los datos demográficos de una sociedad son fundamentales para definir políticas futuras, además de ser indicadores del nivel de desarrollo de un país. El concepto que permite analizar la relación entre las defunciones y la natalidad se denomina:

- A) inmigración
- B) emigración
- C) migración
- D) crecimiento vegetativo
- E) morbilidad

13. En la sociedad actual se está produciendo una reducción en las tasas de crecimiento demográfico de la población mundial, como consecuencia de diversos cambios que han ocurrido en la sociedad. Entre estos cambios, es correcto considerar:
- A) El mayor protagonismo económico y laboral de las mujeres.
 - B) El empobrecimiento generalizado de las condiciones de vida.
 - C) La ausencia de políticas públicas de planificación familiar.
 - D) La eliminación de mecanismos de control de natalidad.
 - E) El alza considerable registrada en los índices de matrimonios.
14. El crecimiento natural o vegetativo presentó en Chile durante el siglo XX cuatro etapas o fases diferenciadas. Sobre ellas, indique la alternativa correcta:
- A) El mayor crecimiento se produjo antes de 1940 por la alta mortalidad.
 - B) La fase actual se caracteriza por una brusca caída de la natalidad y de la esperanza de vida.
 - C) A partir de 1960 se aprecia una disminución de la mortalidad, y con ello de la esperanza de vida.
 - D) La caída de la natalidad y del ritmo de crecimiento comienzan a partir de 1960.
 - E) Antes de 1930 poseíamos una alta tasa de natalidad y una baja tasa de mortalidad.
15. Desde el punto de vista demográfico y atendiendo a las variables que inciden en el crecimiento y esperanza de vida de la población, respecto de América Latina se puede afirmar que:
- I. Los países del cono sur de América en general crecen a un ritmo menor que los países de Centroamérica.
 - II. Estados Unidos y Canadá poseen los mayores promedios de vida.
 - III. En todos los países la mortalidad infantil se ha elevado en los últimos años.
- A) Sólo I
 - B) Sólo III
 - C) Sólo I y II
 - D) Sólo I y III
 - E) I, II y III
16. La demografía utiliza un conjunto de variables para analizar la composición y distribución de la población. Una de estas variables es la **migración**, la que expresa
- A) las características de habitabilidad de una zona.
 - B) la disponibilidad de recursos económicos para la población.
 - C) los movimientos de población entre un área determinada y otra.
 - D) el nivel de concentración de población en una zona delimitada.
 - E) los cambios de las tasas de fecundidad en un área geográfica.

Pirámide de población de España, año 2007



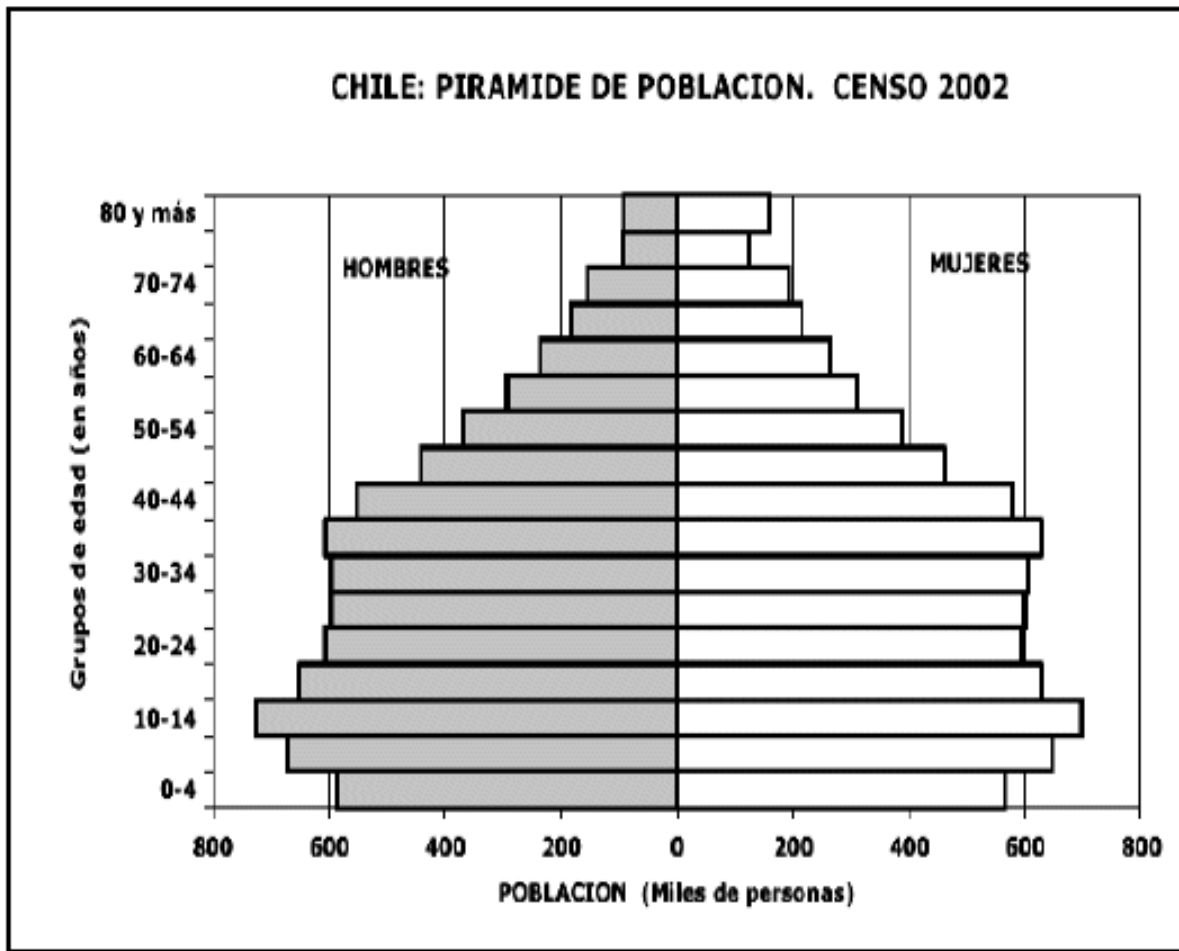
Fuente: Instituto Nacional de Estadística. Censo a 1 de enero de 2007

17. La anterior es una pirámide poblacional correspondiente a España, en la que se pueden ver algunas características que se repiten, exclusivamente, dentro de los países en etapas avanzadas de la transición demográfica, entre las cuales se encuentran:

- I. Altos niveles de natalidad.
- II. Tendencia al envejecimiento poblacional.
- III. La mujer tiene menos esperanza de vida que el hombre.

- A) Solo I
- B) Solo II
- C) Solo I y II
- D) Solo I y III
- E) Solo II y III

18. La densidad es un indicador que señala el grado de concentración de la población, en un espacio determinado. ¿Qué deducciones puedo obtener, al saber que la Región Metropolitana presenta una densidad de 355,4 hab/Km² y la Región de Aisén de 0,8 hab/Km²?
- I. Que la Región Metropolitana es una zona que atrae población.
 - II. Que la Región de Aisén es una zona con algún tipo de dificultad para el asentamiento de la población.
 - III. Que ambas regiones equiparan sus superficies.
- A) Sólo I
B) Sólo I y II
C) Sólo I y III
D) Sólo II y III
E) I, II y III
19. Nuestro país se encuentra en un proceso conocido como transición demográfica. Esto significa que:
- I. La población senil tiende a aumentar su proporción con respecto al resto de la población.
 - II. La población joven tiende a disminuir proporcionalmente con respecto al resto de la población.
 - III. La tasa de fecundidad tiende a asemejarse a la de los países desarrollados.
- A) Sólo I
B) Sólo II
C) Sólo I y II
D) Sólo I y III
E) I, II y III
20. El proceso de planificación familiar implementado después de 1960, luego que Chile registrase una de las mayores tasas de crecimiento de su historia demográfica, se evidenció en:
- A) El aumento de la migración rural-urbana
 - B) La disminución de la fuerza de trabajo
 - C) La disminución de la indigencia
 - D) El aumento de la mortalidad general
 - E) La disminución de la natalidad
21. ¿Qué ocurriría probablemente en un país con baja natalidad y alta mortalidad?
- A) Disminuirá el volumen de población.
 - B) Aumentará la población masculina.
 - C) Se mantendrá el total de población, sin variaciones.
 - D) Aumentará la población anciana.
 - E) Disminuirá la población urbana.



22. La pirámide de población adjunta nos muestra la estructura de la población chilena de acuerdo a los datos obtenidos en el censo del año 2002. Con la información contenida en dicho gráfico es posible concluir que:

- I. La natalidad se ha mantenido notoriamente estable en los últimos 15 años.
- II. Claramente existe un predominio de la población considerada adulta.
- III. Es significativa la longevidad femenina en relación a la de los varones.

- A) Sólo I
- B) Sólo II
- C) Sólo I y II
- D) Sólo II y III
- E) I, II y III

23. La población chilena entre los años 1980 y 2000 mantuvo una baja tasa de mortalidad general, sin embargo, el crecimiento vegetativo o natural descendió. Esta situación demográfica se explica, fundamentalmente, porque durante ese período

- A) disminuyeron gradualmente los índices de mortalidad infantil.
- B) bajó significativamente la tasa de inmigración.
- C) aumentó la esperanza de vida.
- D) continuó bajando la tasa de natalidad.
- E) se incrementaron los movimientos migratorios campo-ciudad.

24. Para establecer comparaciones demográficas, se hace necesario contar con estadísticas actualizadas; para ello se realizan censos cada diez años. Éstos arrojan datos sobre el crecimiento de la población. En Chile nuestro crecimiento natural se ha desacelerado y de "moderado bajo" ha pasado a "lento", esto se debe especialmente a que la tasa de

- I. natalidad ha disminuido notablemente.
- II. mortalidad se presenta en franco aumento.
- III. inmigración es cada vez mayor.

- A) Sólo I
- B) Sólo I y II
- C) Sólo I y III
- D) Sólo II y III
- E) I, II y III

25. El hecho que en América Latina se registre una tasa de natalidad por sobre el promedio mundial y una tasa de mortalidad que va decreciendo, incide en:

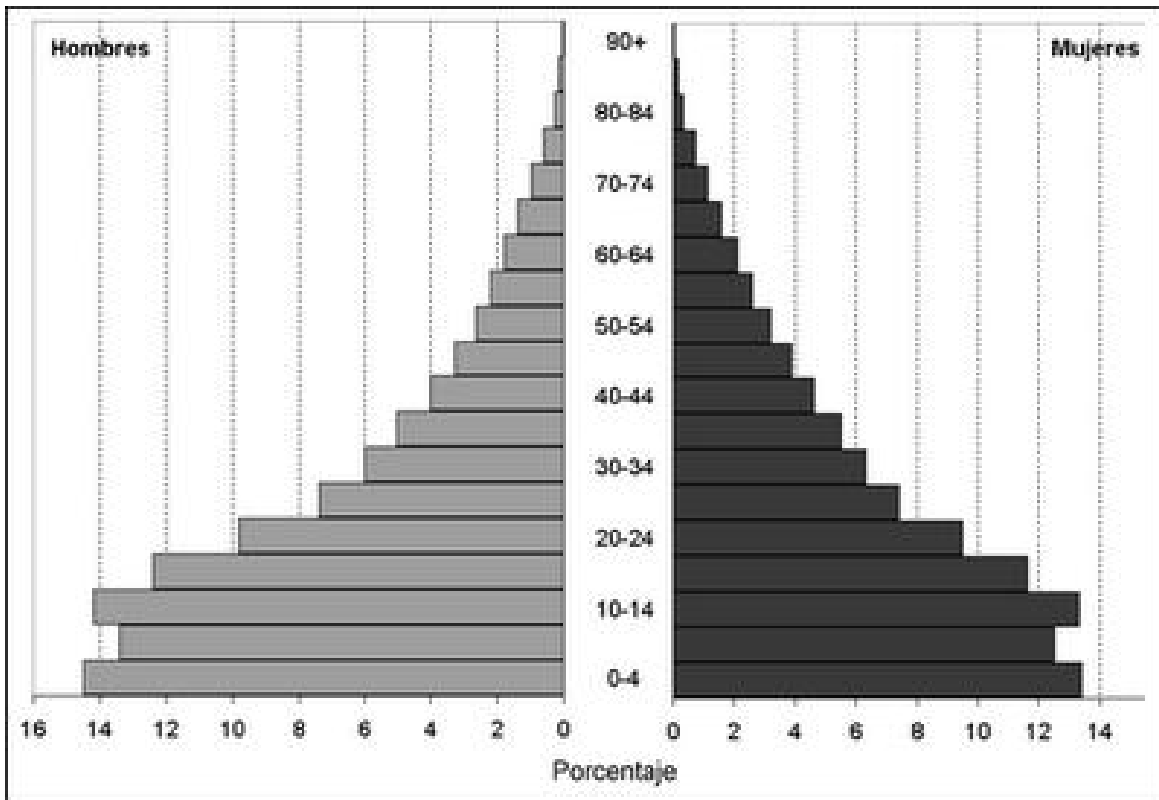
- I. Un significativo crecimiento vegetativo.
- II. Un aumento de la mortalidad infantil.
- III. Una disminución de la expectativa de vida.

- A) Solo I
- B) Solo II
- C) Solo III
- D) Solo I y II
- E) I, II y III

26. En el quinquenio 1955-1960 el promedio de hijos por mujer en Chile era de 5,33. En el quinquenio 1985-1990 fue de 2,45. Ello se puede explicar por alguna de la(s) siguiente(s) situación(es):

- I. El uso de métodos anticonceptivos, en el contexto de la planificación familiar.
- II. La mayor participación de las mujeres en el mundo del trabajo.
- III. La edad cada vez más tardía para contraer matrimonio.

- A) Sólo I
- B) Sólo II
- C) Sólo III
- D) Sólo I y II
- E) I, II y III



27. En base a sus conocimientos previos y de lo que se puede concluir de la imagen, podemos decir que de la pirámide de población que aparece a continuación:

- I. Hay un alto porcentaje de la población joven.
- II. Es característica de los países subdesarrollados.
- III. Existe un alto porcentaje de población anciana.

- A) Sólo I
- B) Sólo II
- C) Sólo III
- D) Sólo I y II
- E) I, II y III

28. Durante el siglo XX, América Latina, así como otras regiones del mundo, comenzaron a vivir un proceso de cambio en el que se pasó de altas tasas de natalidad y mortalidad a bajas tasas de natalidad y mortalidad. Este proceso es conocido como:

- A) Esperanza de vida
- B) Transición demográfica
- C) Pirámide de población
- D) Índices demográficos
- E) Geodemografía

29. Como es sabido la población mundial no se reparte homogéneamente en el territorio, existiendo zonas de alta densidad y concentración y otras claramente desocupadas. América Latina no escapa a esta situación, muestra de ello es que presenta una

- I. alta concentración en ciertos sectores periféricos del sur oriente de América.
- II. baja densidad en las ciudades capitales de los países.
- III. alta concentración en los llanos del Orinoco y en la Patagonia.

- A) Sólo I
- B) Sólo II
- C) Sólo III
- D) Sólo I y II
- E) I, II y III

30. El crecimiento natural (o vegetativo) es la diferencia entre el número de nacidos y el número de fallecidos. Si el número de nacidos es superior al número de muertos se dice que la tasa de natalidad es mayor a la de mortalidad, es decir la población aumenta; cuando las defunciones superan a los nacimientos la población disminuye. El crecimiento natural se calcula restándole a los nacidos los muertos. La tasa de crecimiento vegetativo se considera alta si supera el 2%, moderada si se encuentra entre el 1% y el 2%, y baja si es inferior al 1%. Entonces podríamos aceptar que este indicador demográfico está determinado por

- A) la tasa de fecundidad y la tasa de morbilidad.
- B) el índice de masculinidad y la esperanza de vida.
- C) la tasa de nupcialidad y la tasa de fecundidad.
- D) el índice de desempleo y la tasa de morbilidad.
- E) la tasa de dependencia y el índice de masculinidad.

CLAVES
Control de Materia N° 2

1.	C	16.	C
2.	B	17.	B
3.	E	18.	B
4.	A	19.	E
5.	C	20.	E
6.	C	21.	A
7.	B	22.	D
8.	E	23.	D
9.	B	24.	A
10.	A	25.	A
11.	C	26.	E
12.	D	27.	D
13.	A	28.	B
14.	D	29.	A
15.	C	30.	A