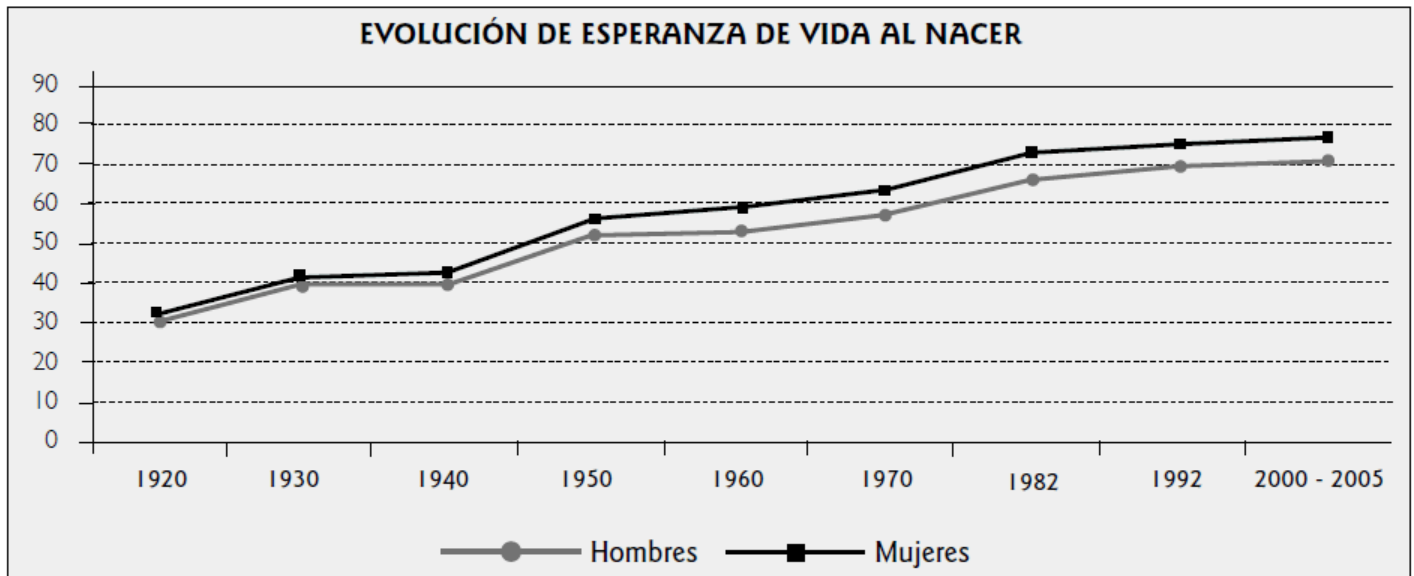


## I. Espacio Geográfico

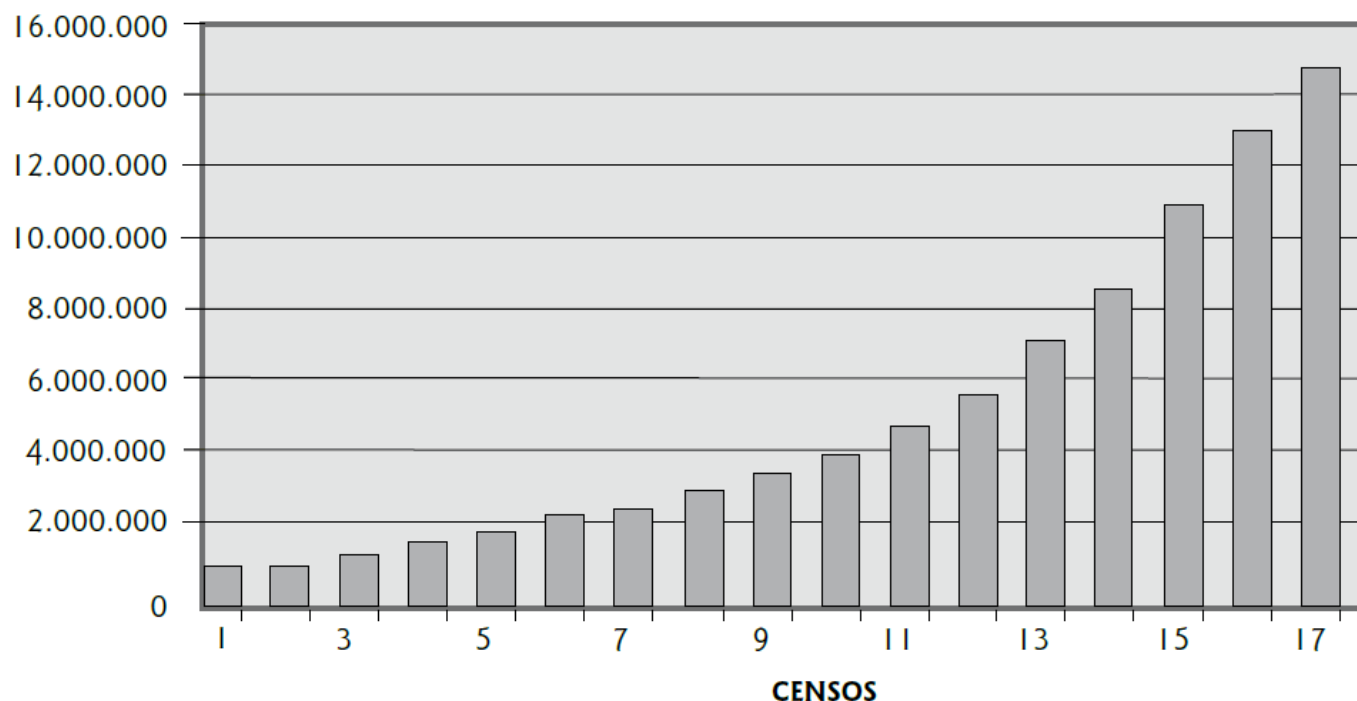
# Control de Materia N°6 ESPACIO GEOGRÁFICO



1. Respecto de la evolución que ha experimentado la esperanza de vida en Chile durante el transcurso del siglo XX, según lo indicado en el gráfico adjunto, es correcto señalar que
- I. ha aumentado progresivamente.
  - II. en el período 2000-2005 alcanzó su mayor nivel.
  - III. a partir del año 1940, supera los 50 años.
- A) Sólo I  
B) Sólo I y II  
C) Sólo I y III  
D) Sólo II y III  
E) I, II y III
2. Es el desplazamiento de la población de un lugar a otro. Del campo a la ciudad, de una ciudad a otra, de un país a otro. El párrafo precedente describe el concepto de
- A) Migración
  - B) Densidad
  - C) Volumen
  - D) Distribución
  - E) Natalidad

## POBLACIÓN

### POBLACIÓN SEGÚN CENSOS, 1835 A 2002



3. De la observación del gráfico adjunto sobre los censos de población desde el año 1835 hasta el 2002, es correcto señalar que

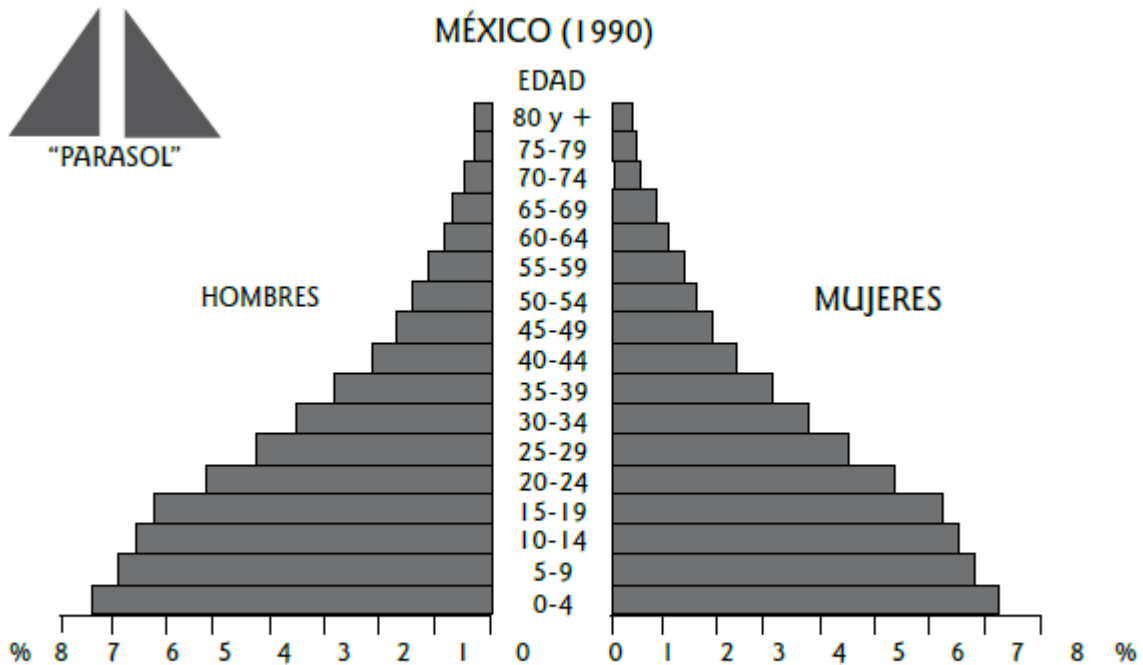
- I. la población ha crecido de manera permanente.
- II. durante el siglo XIX (censo 1 al 6) el crecimiento de la población fue más rápido que en el siglo XX (desde el censo 7 en adelante).
- III. el período censal que refleja el mayor crecimiento de la población es el que abarca desde el 5 al 7.

- A) Sólo I
- B) Sólo II
- C) Sólo III
- D) Sólo I y III
- E) I, II y III

4. La estructura de la población incluye indicadores de sexo, edad, lugar de residencia, entre otros. Según el Censo 2002, la estructura de la población chilena se caracteriza por

- I. una esperanza de vida femenina mayor que la masculina.
- II. el predominio del segmento etario adulto.
- III. el aumento constante de la población adulto mayor, signo de que la población tiende al envejecimiento.

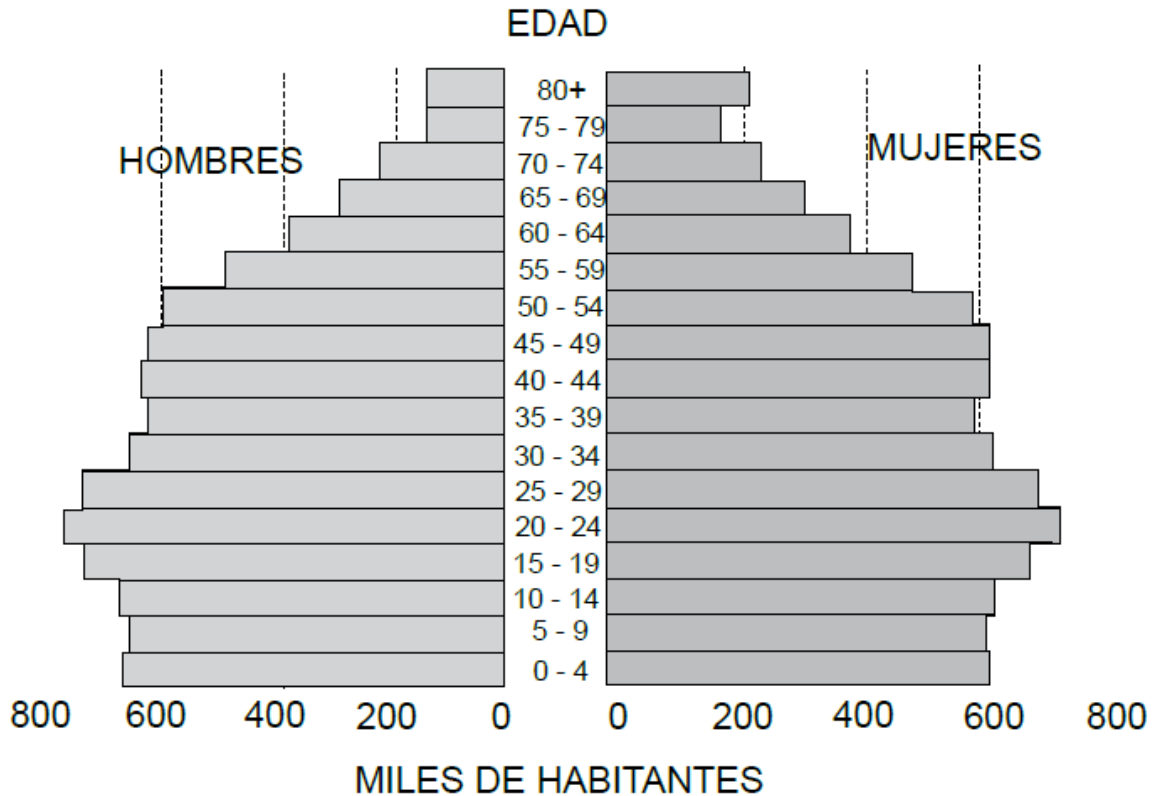
- A) Sólo II
- B) Sólo I y II
- C) Sólo I y III
- D) Sólo II y III
- E) I, II y III



Indica que la estructura demográfica es progresiva. La población joven es más numerosa.

5. Del análisis de la pirámide de población de México del año 1990, y considerando sus conocimientos, es correcto afirmar que
- A) la pirámide refleja la situación de un país de transición demográfica avanzada.
  - B) México poseía en 1990 altos niveles de natalidad.
  - C) las tasas de mortalidad bruta están controladas.
  - D) la pirámide es representativa de un país con alto nivel de desarrollo.
  - E) la pirámide refleja una escasa población infanto-juvenil.
6. De acuerdo con las características generales de la población en Chile obtenidas por los Censos recientes, es correcto afirmar que
- I. su distribución es homogénea a lo largo del territorio nacional.
  - II. se concentra, preferentemente en áreas urbanas.
  - III. en las regiones extremas del país, predomina la residencia rural.
- A) Sólo II
  - B) Sólo III
  - C) Sólo I y II
  - D) Sólo I y III
  - E) I, II y III

# PIRÁMIDE DE LA POBLACIÓN CHILENA (2013)



(Archivo Cpech con datos INE)

7. Las conductas demográficas de la sociedad chilena han evolucionado considerablemente desde mediados del siglo XX hasta la actualidad. En este contexto y considerando la información incluida en la pirámide de población adjunta, es posible inferir que
- A) la población nacional ha tenido un estancamiento de la esperanza de vida.
  - B) actualmente nacen más personas que hace tres décadas atrás.
  - C) la población joven chilena ha tenido un descenso demográfico.
  - D) la población adulto mayor femenina es menor que su símil masculino.
  - E) actualmente la tasa de natalidad es menor que hace tres décadas atrás.
8. La recolección de información demográfica en Chile se realiza con mayor rigurosidad desde la creación del Instituto Nacional de Estadísticas. Considerando la evolución demográfica que Chile ha mostrado a lo largo del siglo XX, es correcto afirmar que
- A) el crecimiento vegetativo ha ido siempre en permanente aumento.
  - B) la estructura etaria adulto - mayor ha sido siempre la dominante.
  - C) la tasa de mortalidad ha crecido sostenidamente a lo largo de todo el siglo.
  - D) la tasa de natalidad ha sido fluctuante, mostrando un descenso en la última parte del siglo.
  - E) el aumento en el número de habitantes tuvo un claro estancamiento en la década del 1960.

9. La distribución de la población en Chile es heterogénea ya que hay presencia de zonas ecúmenes y anecúmenes por factores físicos, económicos, históricos y político-administrativos. El concepto demográfico que compara de manera efectiva estas dos zonas es la
- A) tasa de urbanización.
  - B) tasa de fecundidad.
  - C) densidad de población.
  - D) pirámide de población.
  - E) segregación socio-espacial.
10. De acuerdo con lo establecido por el Censo del año 2002 en cuanto a la clasificación por edad de la población, es correcto señalar que
- I. predomina la población adulta.
  - II. existe una tendencia al envejecimiento de la población.
  - III. el país tiene una estructura etaria mayoritariamente senil.
- A) Sólo I
  - B) Sólo II
  - C) Sólo III
  - D) Sólo I y II
  - E) Sólo II y III

### Tasa de crecimiento urbano (Proyección 2005-2030)

Mundo	<b>1,78 %</b>
Países desarrollados	<b>0,75 %</b>
Asia oriental y sudoriental	<b>3,82 %</b>
África subsahariana	<b>4,58 %</b>

Historia, Geografía y Ciencias Sociales 1º medio, Pág. 165 Edit. Aguilar

11. A partir de la tabla podemos concluir que:
- I. Los continentes con mayor crecimiento urbano son Asia y África.
  - II. El crecimiento urbano se traducirá en enormes aglomeraciones y hacinamiento en las ciudades.
  - III. Los países desarrollados han presentado mayor crecimiento rural que urbano.
  - IV. El crecimiento urbano de África se traduce en un mayor surgimiento de megalópolis.
- A) Solo I y II
  - B) Solo I, II y III
  - C) Solo II, III y IV
  - D) Solo I, III y IV
  - E) I, II, III y IV



**12.** Uno de los fenómenos provocados por el proceso de urbanización es la aparición de los denominados "suburbios" o áreas periféricas a las zonas metropolitanas, estos pueden ser del tipo "satélites" y entre sus características están:

- I. Disponibilidad de abundantes puestos de trabajo.
- II. Presencia de bienes y servicios para satisfacer las necesidades de su población.
- III. Contar con abundantes redes de autopistas y carreteras que los conectan con los centros urbanos.
- IV. Predominio de las actividades económicas primarias.

- A) Sólo I
- B) Sólo II
- C) Sólo I y II
- D) Sólo III y IV
- E) Sólo I, II y III

**13.** El proceso de expansión de la ciudad ha desembocado en la unión por crecimiento de ciertas localidades, como el caso de Coquimbo y La Serena, de Valparaíso y Viña del Mar, de Concepción y Talcahuano, de Santiago y San Bernardo. El párrafo hace alusión al concepto de

- A) megalópolis
- B) metrópolis
- C) trazado irregular
- D) ciudad primada
- E) conurbación

- 14.** Las ciudades chilenas están conformadas por una serie de áreas que presentan la hegemonía de una actividad determinada, entre las que se encuentran la función residencial, industrial, comercial, entre otras. El párrafo hace alusión al concepto de
- A) comuna
  - B) uso disperso del suelo
  - C) barrio
  - D) actividad económica
  - E) población
- 15.** “La marginalidad es inherente a los procesos de urbanización, cuyas principales características son una población urbana que en número supera la correspondiente a la capacidad del sistema productivo interno, la asociación entre producción industrial y urbanización, insuficiencia en el empleo y servicios, acentuación de la segregación ecológica por clases sociales y polarización del sistema de estratificación al nivel del consumo”. Del texto se desprende que:
- I. Es un privilegio ser marginal en una gran ciudad.
  - II. La urbanización trae consigo problemas, como la falta de empleos.
  - III. Si hay urbanización, no existe la marginalidad.
- A) Sólo I
  - B) Sólo II
  - C) Sólo III
  - D) Sólo I y II
  - E) Sólo II y III
- 16.** En el mundo actual, el proceso de globalización, caracterizado por la revolución de las comunicaciones y el funcionamiento en red de la economía, es bastante complejo. Entre las repercusiones económicas de este proceso se cuenta(n) la
- I. consolidación del protagonismo económico de las empresas multinacionales.
  - II. tendencia a la eliminación en la mayoría de los países del mundo, de las regulaciones comerciales y financieras.
  - III. renovación tecnológica de todas las empresas nacionales de los países del tercer mundo antes de competir en los mercados.
- A) Sólo II
  - B) Sólo III
  - C) Sólo I y III
  - D) Sólo I y II
  - E) Sólo II y III
- 17.** El concepto de “Aldea Global” se utiliza frecuentemente en los análisis internacionales. Este concepto se refiere a
- A) que el espacio planetario se ha reducido.
  - B) la importancia que tienen los pueblos indígenas en el mundo actual.
  - C) la conectividad de las comunicaciones mundiales.
  - D) lo reducido de los intercambios comerciales.
  - E) que el ser humano sigue organizado en aldeas.

**18.** Entre las causas directas de la Globalización, se puede(n) mencionar:

- I. La transnacionalización de las empresas europeas y norteamericanas en la década de 1960.
- II. La expansión internacional de los Estados Unidos, después de la Segunda Guerra Mundial.
- III. El surgimiento de nuevos polos de desarrollo en el continente Sudamericano y Sudafricano.

- A) Solo I
- B) Solo II
- C) Solo I y II
- D) Solo I y III
- E) Solo II y III

**19.** La revolución tecnológica ha reducido el tiempo para realizar las transacciones de cualquier producto en el mercado internacional. Lo que antes demoraba semanas e incluso meses en llevarse a cabo en las transacciones internacionales, hoy es posible resolverlo en cuestión de días, incluso horas. De los siguientes procesos, ¿cuál(es) sirve(n) para explicar esta transformación?


- I. La ausencia de controles aduaneros en los distintos Estados.
- II. El comercio mundial y nacional a través de Internet.
- III. La agilización de las comunicaciones, personales y de masas.

- A) Solo I
- B) Solo II
- C) Solo III
- D) Solo II y III
- E) I, II y III

**20.** La revolución tecnológica importa una suerte de escenario cultural único a nivel mundial, pero al mismo tiempo esta ha sido determinante en la mentalidad individual, en la convivencia social y en la difusión cultural al interior de los países. Al respecto, uno de los posibles problemas del uso masificado de la nueva tecnología aplicada al campo de las comunicaciones es la (el)

- A) invasión de la cultura local con elementos universales.
- B) pérdida del interés en los desafíos de la globalización.
- C) retroceso de la interdependencia cultural.
- D) disminución general de la actividad creativa.
- E) desmotivación en la comunidad científica.





([www.2.bp.blogspot.com](http://www.2.bp.blogspot.com))

- 21.** La caricatura adjunta refleja uno de los aspectos de la interdependencia económica internacional en el contexto de la globalización imperante. Dicho aspecto se relaciona con la relocalización de las grandes empresas de productos de consumo masivo desde su ubicación inicial hacia nuevos lugares de producción. Esta movilidad de las sedes de elaboración de bienes se realiza, principalmente, por
- A) la búsqueda de naciones que cobran mayores aranceles.
  - B) las imposiciones asociadas a los tratados de libre comercio.
  - C) el abaratamiento de los costos de producción en mano de obra.
  - D) el aumento de los costos asociados a los créditos de consumo.
  - E) la búsqueda de países sin normas medioambientales obligatorias.
- 22.** Este fenómeno ha traído como consecuencia el aumento de la temperatura de la atmósfera, debido a que el calor no puede disiparse por la presencia anormal de CO<sub>2</sub>. ¿A qué problema medioambiental se hace referencia?
- A) Efecto invernadero.
  - B) Desertificación.
  - C) Deterioro de la capa de ozono.
  - D) Contaminación atmosférica.
  - E) Pérdida de la biodiversidad.

## ÍNDICE DE DESARROLLO HUMANO (IDH) 2013

IDH MUY ALTO	IDH BAJO
Noruega	Chad
Australia	Mozambique
Estados Unidos	Congo
Países Bajos	Níger

(PNUD, Informe sobre Desarrollo Humano 2013)

**23.** El Índice de Desarrollo Humano es un indicador de la calidad de vida de las sociedades que fue creado en 1990 por el Programa de la Naciones Unidas para el Desarrollo (PNUD). Este indicador incluye las variables de esperanza de vida, logros educacionales e ingresos promedios de cada país. A partir de lo anterior y la información que incluye la tabla estadística adjunta, la cual está organizada en orden descendente, es correcto deducir que

- I. países desarrollados ocupan los primeros lugares de calidad de vida.
- II. África agrupa a la mayoría de las naciones con peor calidad de vida.
- III. las economías nacionales industrializadas poseen altos ingresos per cápita.

- A) Solo I
- B) Solo III
- C) Solo I y III
- D) Solo II y III
- E) I, II y III

**24.** Para entender el fenómeno de la pobreza en sus diversas dimensiones, hay que considerar no sólo la carencia de bienes materiales, sino insuficiencias de bienes no materiales, tales como formas de participación, salud y educación. De los siguientes, ¿cuál(es) puede(n) ser considerado(s) como indicador(es) de pobreza en un país?

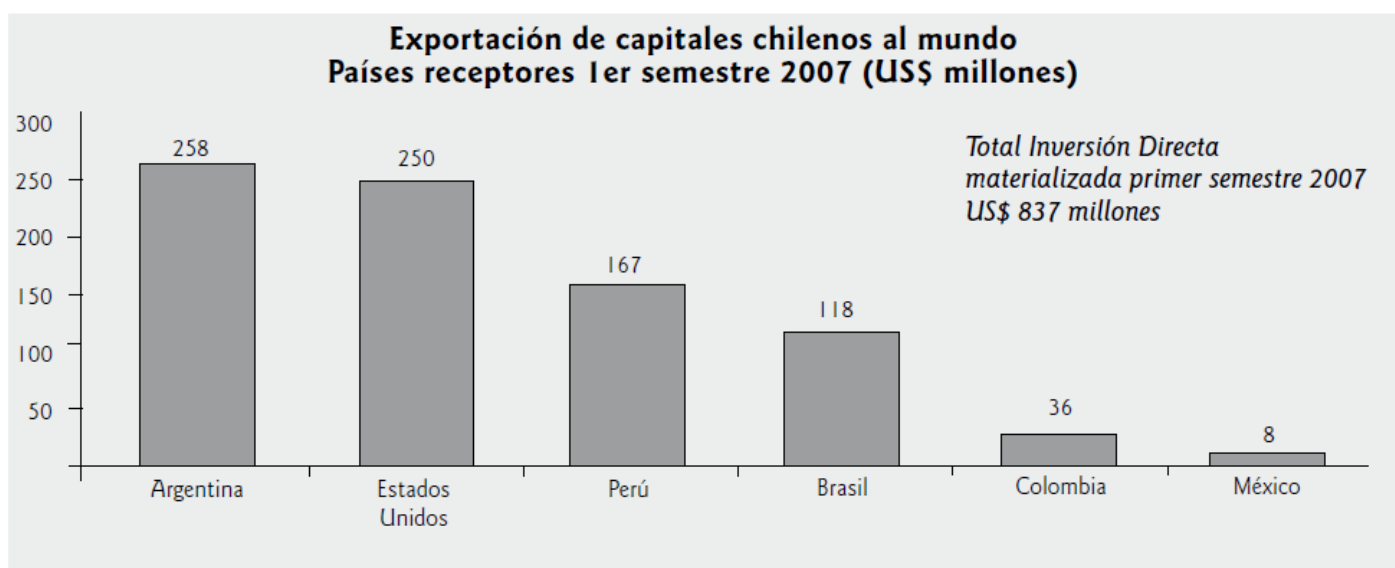
- I. Si el país está comprometido en conflictos bélicos.
- II. La esperanza de vida al nacer.
- III. El Producto Interno Bruto, medido en dólares.

- A) Solo I
- B) Solo II
- C) Solo I y II
- D) Solo I y III
- E) Solo II y III

25. Dada la globalización y la adopción de un modelo económico de corte neoliberal, Chile ha firmado acuerdos de carácter bilateral y multilateral con distintos países del mundo. En el ámbito económico, ¿qué objetivo(s) persigue(n) estos acuerdos?

- I. Lograr que Chile participe de una amplia gama de mercados.
- II. Favorecer las exportaciones de productos que tengan "ventajas comparativas".
- III. Permitir que productos exportados por Chile ingresen a esos mercados con bajos aranceles o ningún arancel.

- A) Sólo II
- B) Sólo III
- C) Sólo I y II
- D) Sólo II y III
- E) I, II y III



**(www.direcon.cl)**

26. Del análisis del gráfico anterior más sus conocimientos, es correcto señalar que

- I. la inversión chilena en el exterior está concentrada en Estados Unidos.
- II. la ubicación geográfica, entre otros factores, es relevante a la hora de invertir.
- III. la inversión chilena sólo se realiza en economías desarrolladas.

- A) Sólo I
- B) Sólo II
- C) Sólo I y III
- D) Sólo II y III
- E) I, II y III

**27.** A pesar del crecimiento económico sostenido que ha experimentado nuestra economía, aún se mantienen profundas inequidades en la sociedad chilena. De los elementos que se mencionan a continuación, ¿cuál(es) es (son) expresión(es) de la desigualdad en Chile?

- I. La desigual distribución de la riqueza: El 20% más rico dispone del 57,3% de los ingresos.
- II. El avance del analfabetismo y la escasez de escuelas de Educación Básica.
- III. La concentración del conocimiento y de la propiedad en un sector privilegiado de la sociedad.

- A) Solo I
- B) Solo III
- C) Solo I y II
- D) Solo I y III
- E) I, II y III

**28.** Respecto de las actividades económicas que se desarrollan actualmente en el país, es (son) correcta(s) la(s) siguiente(s) aseveración(es):

- I. Hay enorme dependencia del mercado externo en materia de hidrocarburos.
- II. La actividad agrícola posee ventajas comparativas respecto de otros países.
- III. La actividad minera ha dejado de ser el pilar de nuestra economía, dejando este lugar a las llamadas exportaciones NO tradicionales, como la venta de vinos.

- A) Sólo I
- B) Sólo II
- C) Sólo I y II
- D) Sólo II y III
- E) I, II y III

**29.** El comercio exterior de Chile se ha diversificado en las décadas recientes a través de las exportaciones aportadas desde las distintas zonas geográficas del país. En relación a lo anterior determina la asociación correcta entre zona geográfica y producto exportado.

- |                       |                      |
|-----------------------|----------------------|
| 1. Norte Chico        | a. salmón            |
| 2. Zona Central       | b. uvas              |
| 3. Zona Sur - austral | c. madera y celulosa |

- A) 1a, 2b, 3c.
- B) 1c, 2b, 3a.
- C) 1c, 2a, 3b.
- D) 1b, 2c, 3a.
- E) 1b, 2a, 3c.

- 30.** "Los recursos que se obtendrán este año por concepto de tributación de la minería del cobre serán equivalentes a la mitad del Presupuesto de la Nación previsto para 2006, según se desprende de un informe de la Comisión Chilena del Cobre (Cochilco) dado a conocer ayer. El organismo, que subió la proyección para el precio promedio del metal de este año desde US\$ 1,7 a US\$ 2,6 por libra, anticipó que el Fisco podrá recibir nada menos que US\$ 11.000 millones este año". ([www.latercera.com](http://www.latercera.com)).

Luego de la lectura del texto anterior, y considerando sus conocimientos, es correcto deducir que

- I. pese a la diversificación de las exportaciones, el cobre sigue siendo el principal recurso nacional.
- II. la totalidad de los recursos fiscales que provienen del cobre son aportados por CODELCO.
- III. las entradas fiscales están relacionadas con el precio internacional del cobre.

- A) Sólo I
- B) Sólo III
- C) Sólo I y II
- D) Sólo I y III
- E) Sólo II y III

**CLAVES**  
**Control de Materia N°6**

<b>1.</b>	B	<b>16.</b>	D
<b>2.</b>	A	<b>17.</b>	C
<b>3.</b>	A	<b>18.</b>	C
<b>4.</b>	E	<b>19.</b>	D
<b>5.</b>	B	<b>20.</b>	A
<b>6.</b>	A	<b>21.</b>	C
<b>7.</b>	E	<b>22.</b>	A
<b>8.</b>	D	<b>23.</b>	E
<b>9.</b>	C	<b>24.</b>	E
<b>10.</b>	D	<b>25.</b>	E
<b>11.</b>	A	<b>26.</b>	B
<b>12.</b>	E	<b>27.</b>	D
<b>13.</b>	E	<b>28.</b>	C
<b>14.</b>	C	<b>29.</b>	D
<b>15.</b>	B	<b>30.</b>	D