

PRUEBA DE HISTORIA, GEOGRAFÍA Y CIENCIAS SOCIALES

La estructura de este ensayo se basa en la tabla de especificaciones informada por el DEMRE en mayo 2014.

Ejes Temáticos	Rango Porcentual	Ensayo
Espacio Geográfico	10 a 20%	15
Democracia y desarrollo	5 a 15%	9
Chile y América en perspectiva histórica	40 a 50%	40
El Mundo en perspectiva histórica	10 a 20%	16
		80

A partir del proceso de admisión 2015 (pruebas a rendir en diciembre 2014), **NO se descontará** puntaje por las respuestas erróneas.

Se dispone de **2 horas y 30 minutos** para responder la prueba.

Este NO es un ensayo oficial. Los únicos ensayos oficiales son los publicados por el DEMRE (www.demre.cl)

I. ESPACIO GEOGRÁFICO

1. El crecimiento en extensión de algunas ciudades chilenas ha generado una importante pérdida de suelos destinados a la agricultura. Entre las medidas que se han implementado para enfrentar este proceso, se encuentra(n) la(s) siguiente(s):

- I. Densificación urbana.
- II. Ampliación del límite urbano.
- III. Renovación urbana.

- A) Sólo I
- B) Sólo III
- C) Sólo I y III
- D) Sólo II y III
- E) I, II y III

2. Uno de los fenómenos provocados por el proceso de urbanización es la aparición de los denominados "suburbios" o áreas periféricas a las zonas metropolitanas, estos pueden ser del tipo "satélites" y entre sus características están:

- I. Presencia de bienes y servicios para satisfacer las necesidades de su población.
- II. Contar con abundantes redes de autopistas y carreteras que los conectan con los centros urbanos.
- III. Predominio de las actividades económicas primarias.

- A) Sólo I
- B) Sólo II
- C) Sólo I y II
- D) Sólo II y III
- E) I, II y III

3. No cabe duda que las relaciones dentro de las ciudades están determinadas por la composición social, por el entorno económico y el desarrollo de las comunicaciones. En algunas ocasiones estas relaciones de integración se dificultan. Cuando se habla de la relación de un centro urbano con su entorno rural, ésta es de clara

- A) autarquía
- B) complementación
- C) independencia
- D) sumisión
- E) insurgencia

CHILE: EVOLUCIÓN DE LAS TASAS DE NATALIDAD Y MORTALIDAD, 1900 – 1990

Año	Tasa de Natalidad (‰)	Tasa de Mortalidad (‰)
1900	38,4	31,5
1910	39,5	30,7
1920	39,4	31,0
1930	39,8	24,7
1940	36,4	21,3
1950	31,0	15,0
1960	37,5	12,5
1970	26,4	8,7
1980	22,2	6,6
1990	23,3	6,0

(Instituto Nacional de Estadísticas)

4. El cuadro anterior muestra la evolución de dos indicadores demográficos de relevancia. Considerando estos antecedentes y las dinámicas propias de la evolución de la población de Chile, es correcto señalar que estos indicadores se relacionan directamente con
- A) el incremento en la esperanza de vida.
 - B) la disminución de los flujos migratorios.
 - C) el crecimiento de la tasa de fecundidad.
 - D) el decrecimiento del embarazo adolescente.
 - E) el incremento proporcional de la población infantil.
5. La demografía utiliza un conjunto de variables para analizar la composición y distribución de la población. Una de estas variables es la **migración**, la que expresa
- A) las características de habitabilidad de una zona.
 - B) la disponibilidad de recursos económicos para la población.
 - C) los movimientos de población entre un área determinada y otra.
 - D) el nivel de concentración de población en una zona delimitada.
 - E) los cambios de las tasas de fecundidad en un área geográfica.

“El crecimiento natural (o vegetativo) es la diferencia entre el número de nacidos y el número de fallecidos. Si el número de nacidos es superior al número de muertos se dice que la tasa de natalidad es mayor a la de mortalidad, es decir la población aumenta; cuando las defunciones superan a los nacimientos la población disminuye. El crecimiento natural se calcula restándole a los nacidos los muertos. La tasa de crecimiento vegetativo se considera alta si supera el 2%, moderada si se encuentra entre el 1% y el 2%, y baja si es inferior al 1%”.

(Fuente CELADE)

6. De acuerdo al texto precedente se puede afirmar lo siguiente:

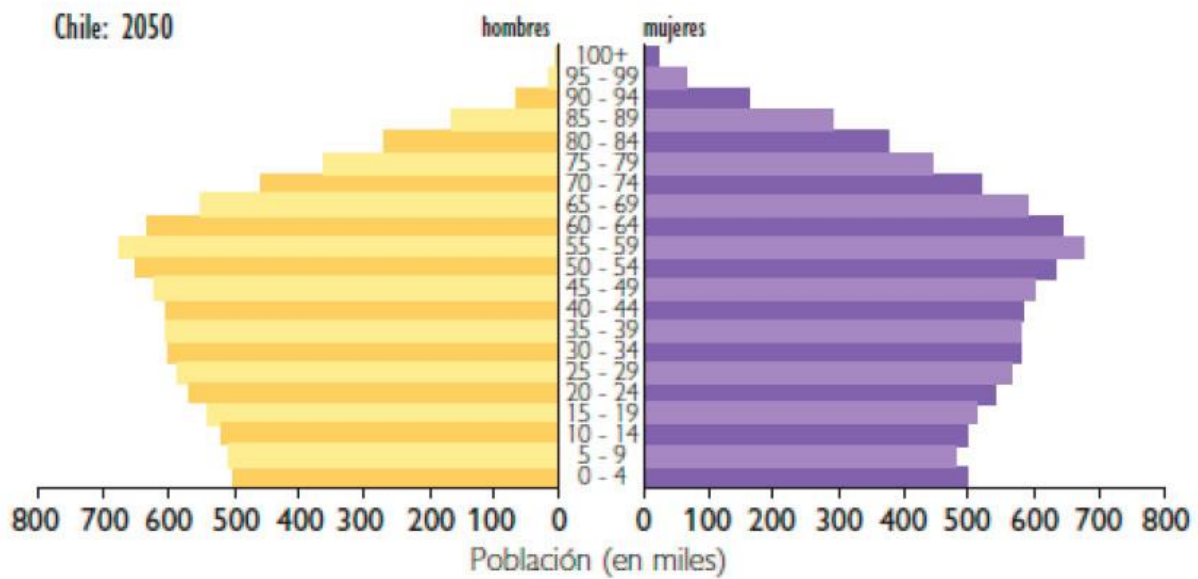
- I. el crecimiento vegetativo de la población está determinado exclusivamente por el comportamiento de la tasa de natalidad.
- II. si la tasa de natalidad y de mortalidad son altas, ello deriva en que el crecimiento natural es alto.
- III. el crecimiento natural es mayor cuando la natalidad se mantiene alta y disminuye significativamente la mortalidad.

- A) Sólo I
- B) Sólo II
- C) Sólo III
- D) Sólo I y II
- E) I, II y III

7. Los últimos censos de población han indicado una disminución sistemática de la tasa de fecundidad, llegando en el año 2002 a menos de la mitad que la registrada en 1960. ¿Qué explica esta tendencia?

- I. La incorporación masiva de la mujer al trabajo remunerado.
- II. Que exista mayor cantidad de hombres que de mujeres.
- III. Que las mujeres están optando por ser madres más tardíamente.

- A) Sólo I
- B) Sólo III
- C) Sólo I y II
- D) Sólo I y III
- E) I, II y III



Historia, Geografía y Ciencias Sociales 1º medio, Pág. 237 Edit. Aguilar

8. De acuerdo al gráfico ¿Qué características tendrá la población chilena para el año 2050?

- I. El predominio de la población adulta.
- II. La mayor esperanza de vida de las mujeres sobre los hombres.
- III. Un aumento de la natalidad.

- A) Sólo I
- B) Sólo I y II
- C) Sólo I y III
- D) Sólo II y III
- E) I, II y III

9. Para establecer comparaciones demográficas, se hace necesario contar con estadísticas actualizadas; para ello se realizan censos cada diez años. Éstos arrojan datos sobre el crecimiento de la población. En Chile el crecimiento natural se ha desacelerado y de "moderado bajo" ha pasado a "lento", esto se debe especialmente a que la tasa de

- I. natalidad ha disminuido notablemente.
- II. mortalidad se presenta en franco aumento.
- III. inmigración es cada vez mayor.

- A) Sólo I
- B) Sólo I y II
- C) Sólo I y III
- D) Sólo II y III
- E) I, II y III

>> Población de 5 años o más inmigrante al país en los últimos 5 años (independiente de la nacionalidad)

País	Total	Porcentaje
Total	167.729	
Perú	39.601	23,61%
Colombia	18.947	11,30%
Argentina	15.650	9,33%
Estados Unidos	13.848	8,26%
España	13.810	8,23%
Bolivia	10.344	6,17%
Ecuador	6.035	3,60%
Brasil	4.646	2,77%
Otros países	44.848	26,74%

FUENTE: DATOS PRELIMINARES CENSO 2012.

10. La observación de la tabla permite afirmar que:

- I. América Latina coopera con el mayor porcentaje de inmigrantes.
- II. En América del Sur la mayoría de los migrantes proviene de la costa este del subcontinente.
- III. Aparte de América, sólo de España viajan migrantes hacia Chile.

- A) Sólo I
- B) Sólo II
- C) Sólo III
- D) Sólo I y II
- E) I, II y III

11. Durante el siglo XX se produjo en el mundo un gran desarrollo de los medios de comunicación. Respecto de éstos, una de sus características en la actualidad es que su funcionamiento

- A) ha marginado a amplios sectores de la población mundial.
- B) se ha centrado en los medios escritos.
- C) requiere el empleo de escasos recursos tecnológicos.
- D) se ha focalizado exclusivamente en el mundo político.
- E) ha permitido una transmisión de información instantánea.

12. El calentamiento atmosférico global es considerado uno de los grandes problemas ambientales de la actualidad. Para buscar la solución a sus efectos negativos, un gran número de países ha suscrito acuerdos, como el de Kioto, para

- A) evitar la contaminación de los suelos por el uso de agroquímicos.
- B) disminuir las emisiones de gases causantes del efecto invernadero.
- C) controlar los efectos ambientales del fenómeno de El Niño.
- D) combatir los procesos de desertificación del territorio.
- E) analizar el estado de conservación de los glaciares.

13. Chile, país que cuenta con un mercado interno pequeño, ha potenciado la integración de su economía al mercado mundial, desde las últimas décadas del siglo XX. Para ello ha empleado como formas de inserción

- I. la rebaja progresiva de aranceles.
- II. los tratados bilaterales.
- III. la incorporación a grandes bloques económicos.

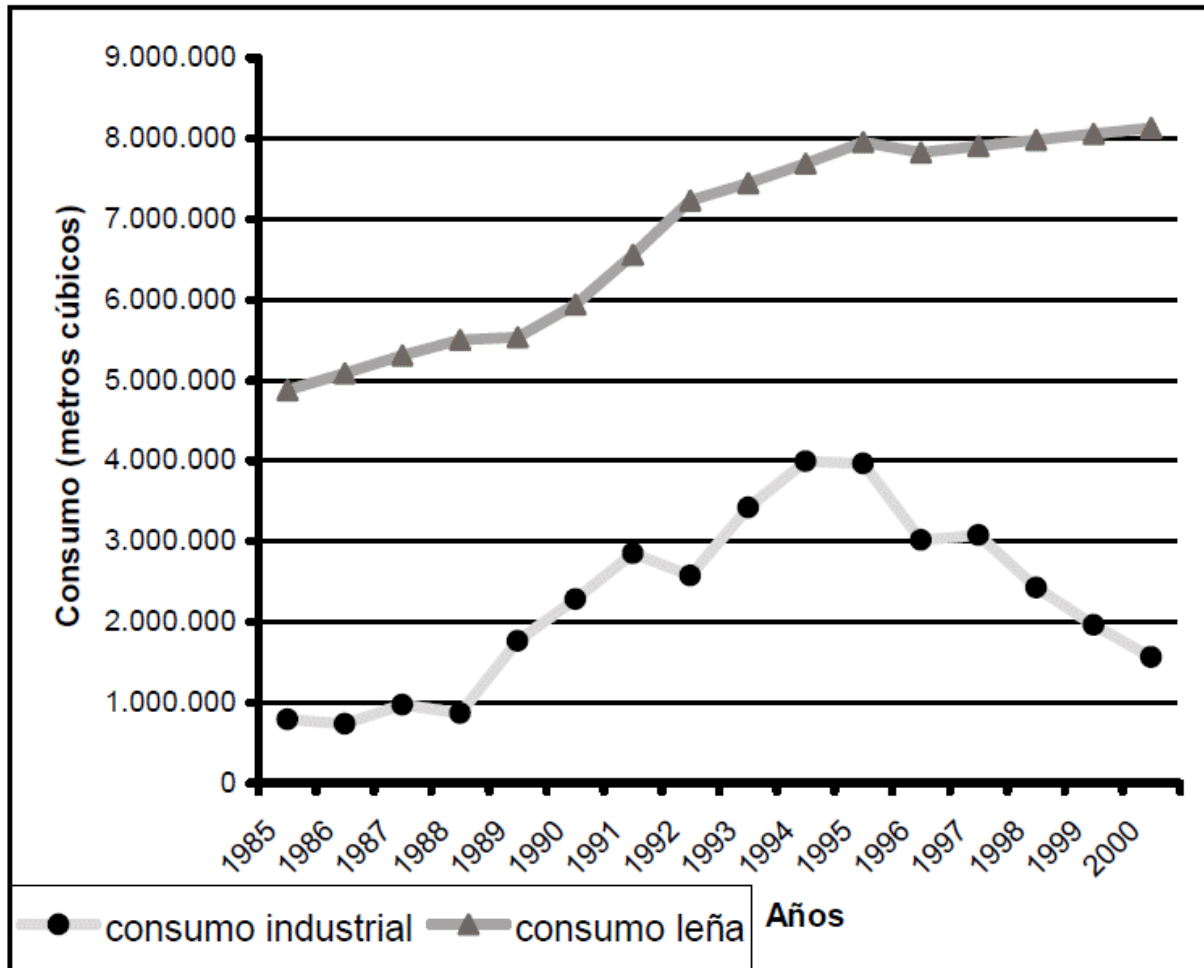
- A) Sólo II
- B) Sólo III
- C) Sólo I y II
- D) Sólo I y III
- E) I, II y III

14. Respecto de la inserción de Chile en el contexto mundial, en las últimas décadas, se observan distintos focos de inversión que buscan facilitar el intercambio con otros países. En dicho contexto, entre los focos de inversión que se han potenciado en el país, se destaca(n)

- I. la infraestructura portuaria.
- II. el sistema de carreteras.
- III. la industria automotriz.

- A) Solo I
- B) Solo II
- C) Solo I y II
- D) Solo I y III
- E) Solo II y III

CHILE: CONSUMO DE ESPECIES FORESTALES NATIVAS PARA USO INDUSTRIAL Y PARA LEÑA (1985-2000)



(Universidad de Chile, Informe País. Estado del Medio Ambiente en Chile, 2002)

15. Al relacionar el comportamiento de la actividad forestal en Chile, en el período 1985-2000, con los datos del gráfico anterior, es correcto extraer la(s) siguiente(s) conclusión(es):

- I. el crecimiento industrial del país se ha visto afectado por el descenso permanente del consumo de bosque nativo.
- II. el uso doméstico de la leña en el país genera un gran impacto sobre el bosque nativo.
- III. la actividad industrial es la principal causa de destrucción del bosque nativo chileno.

- A) Sólo I
- B) Sólo II
- C) Sólo III
- D) Sólo I y III
- E) Sólo II y III

II. DEMOCRACIA Y DESARROLLO

- 16.** La Constitución Política vigente actualmente en el Estado de Chile, define su organización como una República democrática y establece que la soberanía reside, esencialmente, en
- A) el Estado
 - B) la nación
 - C) el gobierno
 - D) la ciudadanía
 - E) el Congreso
- 17.** La democracia, cuyos antecedentes se remontan a la tradición griega clásica, continúa vigente como ideal político en muchos Estados contemporáneos. En el caso de Chile, se acepta generalmente que la estabilidad y perfeccionamiento de la democracia implica, entre otros aspectos,
- I. el respeto a las reglas jurídicas y políticas.
 - II. la activa participación política de los ciudadanos.
 - III. la preocupación de las autoridades por el logro del bien común.
- A) Sólo I
 - B) Sólo III
 - C) Sólo I y II
 - D) Sólo I y III
 - E) I, II y III
- 18.** De acuerdo a la teoría política, existen diversas formas de gobierno, siendo una de ellas el totalitarismo. Una de las características de este tipo de gobierno es que
- A) permite el desarrollo de un régimen pluripartidista.
 - B) se asocia exclusivamente a los fascismos italiano y alemán.
 - C) sitúa al individuo por sobre los intereses del Estado.
 - D) monopoliza el poder político a través de un régimen de partido único.
 - E) promueve los principios monárquicos previos a la Revolución Francesa.
- 19.** El sistema político de Chile funciona como una democracia representativa, lo que significa, fundamentalmente, que
- A) se eligen representantes para que tomen las decisiones.
 - B) todos pueden opinar y votar sin ningún tipo de restricciones.
 - C) los ciudadanos participan directamente de las decisiones.
 - D) se basa en la representatividad de todas las minorías.
 - E) están representados todos los actores sociales.

- 20.** La actual Constitución Política de Chile define al país como una República en la cual el Jefe de Estado es a la vez el Jefe de Gobierno. Dicha autoridad se caracteriza, entre otros aspectos, por
- I. ser elegida por votación popular.
 - II. desempeñar el cargo por un tiempo determinado.
 - III. carecer de responsabilidad política.
- A) Solo I
B) Solo II
C) Solo I y II
D) Solo II y III
E) I, II y III
- 21.** Según la legislación vigente en Chile, poseen la calidad de ciudadanos los mayores de 18 años inscritos en los registros electorales que no hayan sido condenados a pena aflictiva. De acuerdo a dichas características, poseer la calidad de ciudadano es un requisito para poder
- I. votar en las elecciones y plebiscitos.
 - II. optar a cargos de elección popular.
 - III. participar en organizaciones medioambientales.
- A) Sólo I
B) Sólo II
C) Sólo I y II
D) Sólo II y III
E) I, II y III
- 22.** En una elección política, según la institucionalidad jurídica de la República de Chile, para que el sufragio sea legítimo se requiere, entre otros aspectos, que la votación de la ciudadanía sea secreta y que además,
- A) sólo voten quienes sepan leer y escribir.
 - B) el Estado designe a los candidatos.
 - C) voten todas las personas que viven en el territorio nacional.
 - D) el proceso sea informado.
 - E) la propaganda electoral sea financiada por el Gobierno.
- 23.** Los Derechos Humanos, ratificados en diversos tratados internacionales, se fundamentan en principios esenciales y se caracterizan, entre otros aspectos, por ser inviolables, universales, inalienables y propios del ser humano. En este contexto, el carácter universal de estos derechos significa que
- A) las personas no pueden renunciar a ellos.
 - B) se adquieren desde el nacimiento.
 - C) se reconocen a todas las personas por igual.
 - D) su incumplimiento es un delito.
 - E) deben cumplirse en su totalidad.

24. Artículo 1º: "El Estado chileno reconoce que los indígenas de Chile son los descendientes de las agrupaciones humanas que existen en el territorio nacional desde tiempos precolombinos, que conservan manifestaciones étnicas y culturales propias siendo para ellos la tierra el fundamento principal de su existencia y cultura." (Ley Indígena, 1993).

En relación con el texto anterior, se puede afirmar que en Chile

- I. los grupos étnicos indígenas actuales tienen vinculación con el Estado.
- II. existen diversas manifestaciones étnico-culturales.
- III. la base cultural de las etnias es su territorio.

- A) Sólo I
- B) Sólo II
- C) Sólo I y II
- D) Sólo II y III
- E) I, II y III

25. "La inversión en la gente, en su calidad de factor productivo, es uno de los dos componentes del gasto social. Pero aún más importante es que los gastos de inversión en la gente [...] capacitan a las personas para insertarse mejor en el mercado y contribuyen a interrumpir, o al menos debilitar, la reproducción de la pobreza: hijos de pobres condenados a ser pobres."

(Ricardo Ffrench-Davis, Chile entre el Neoliberalismo y el crecimiento con equidad. Reformas y políticas económicas desde 1979)

Del documento y su relación con el desarrollo económico-social de Chile en la actualidad, se infiere que

- I. la educación otorga herramientas para aminorar la brecha entre ricos y pobres.
- II. el mejoramiento tecnológico ha generado una equitativa distribución del ingreso.
- III. el perfeccionamiento de las personas se relaciona con el progreso del país.

- A) Sólo I
- B) Sólo III
- C) Sólo I y II
- D) Sólo I y III
- E) Sólo II y III

III. CHILE Y AMERICA EN PERSPECTIVA HISTÓRICA

26. Entre los pueblos que habitaban Chile antes de la llegada de los españoles estaban los onas o selknam, quienes ocupaban gran parte de Tierra del Fuego. Este pueblo consiguió alcanzar una etapa arcaica o primitiva de desarrollo cultural, lo que implicó, entre otras cosas, que su economía se basó fundamentalmente en

- A) la práctica de la agricultura.
- B) la elaboración de cerámica.
- C) la caza y recolección.
- D) la fabricación de objetos de metal.
- E) el intercambio de productos artesanales.

27. La conquista española generó fuertes impactos en el mundo indígena americano. Uno de los más importantes fue la transmisión de enfermedades epidémicas para las cuales los aborígenes no tenían anticuerpos. Entre los problemas derivados de esta situación en América se puede(n) mencionar

- I. una drástica disminución de la población aborigen.
- II. una menor disponibilidad de mano de obra para las actividades productivas.
- III. un descenso en el interés de los españoles por continuar el proceso de conquista.

- A) Sólo I
- B) Sólo I y II
- C) Sólo I y III
- D) Sólo II y III
- E) I, II y III

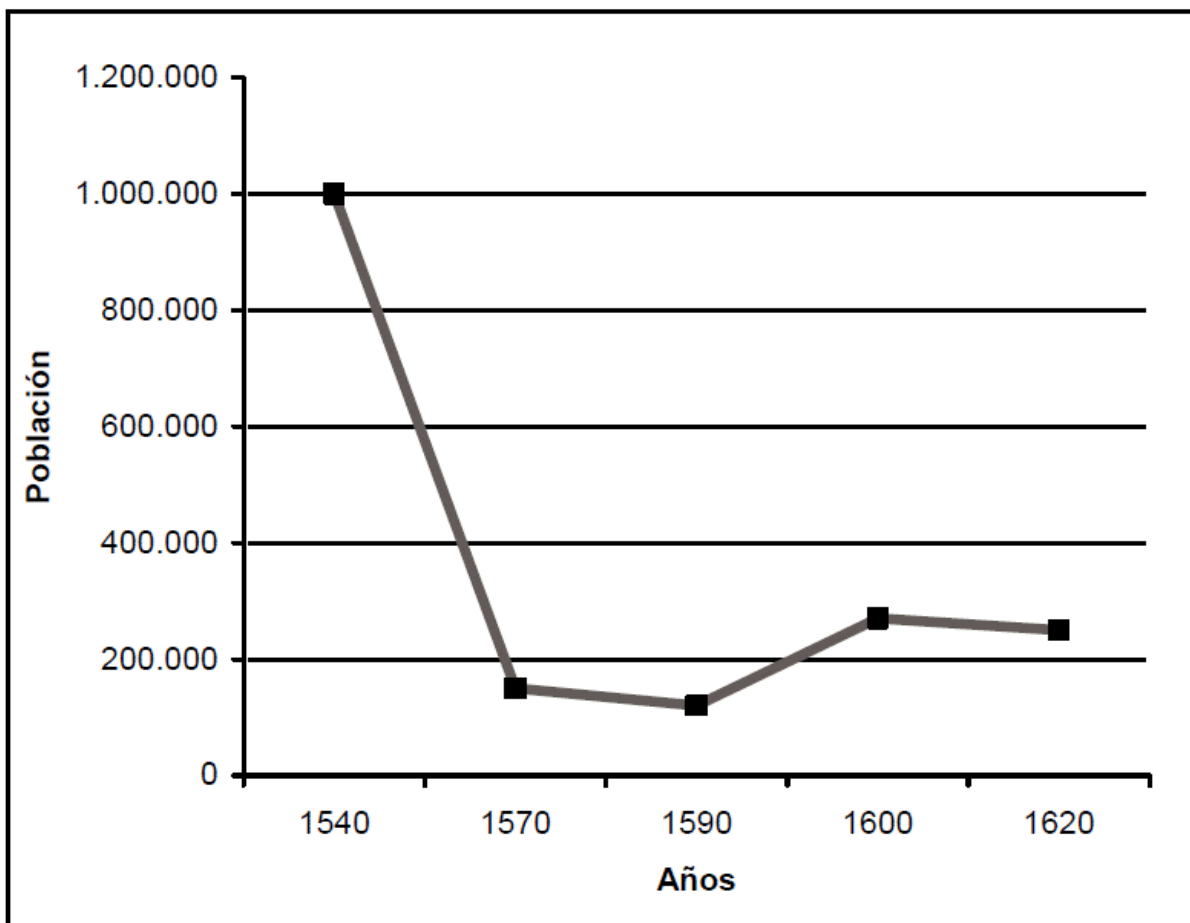
“Yo, Catalina india natural que soy de la ciudad de Angol [...] nombro por mi universal heredero a Diego Barahona mi hijo natural y del capitán Juan Barahona mi amo para que herede los dichos bienes.”

(Testamento de Catalina, Santiago, 1596).

28. El fragmento citado que corresponde al testamento de una mujer mapuche, es un ejemplo que ilustra un aspecto de la historia de Chile que se inició en el siglo XVI. Este aspecto dice relación con

- A) el abandono de la zona de la Araucanía por parte de los indígenas.
- B) el surgimiento de una población que desciende de conquistadores y conquistados.
- C) el bautismo de todos los indígenas del territorio con nombres españoles.
- D) la mantención de una separación completa entre españoles e indígenas.
- E) el aumento notable de la población indígena en Chile Central.

POBLACIÓN DE INDIOS NO CONQUISTADOS EN CHILE ENTRE 1540 Y 1620



29. El gráfico anterior basado en los datos proporcionados por el historiador Rolando Mellafe en su libro *La introducción de la esclavitud negra en Chile*, permite observar la fuerte disminución de la población de indios no conquistados o libres en Chile. Esta situación se explica, entre otras razones, por

- I. el paso de población aborigen libre a la calidad de indios sometidos al sistema de encomienda.
- II. el desplazamiento de población encomendada a otros territorios de Sudamérica.
- III. la llegada de una serie de enfermedades para las cuales los indígenas carecían de defensas inmunológicas.

- A) Sólo I
- B) Sólo III
- C) Sólo I y II
- D) Sólo I y III
- E) Sólo II y III

“El comercio había hecho algún avance y comenzaba a encausarse en sus procedimientos. El año 1724, por ejemplo, algunos grupos de pehuenches habían pasado por la Isla de la Laja efectuando trueques de especies. Uno de ellos, compuesto de dieciséis indígenas, cambió en Palpal un cargamento de sal por doscientos caballos, otro también había adquirido caballos y un tercero se retiró conduciendo ovejas. Los hispanocriollos, por su parte, en esa misma época comenzaban a cruzar la cordillera para ir a comerciar con los pehuenches.”

(Sergio Villalobos, Los pehuenches en la vida fronteriza).

30. El historiador citado alude al intercambio comercial que comenzó a producirse en la primera mitad del siglo XVIII con los pehuenches. Al respecto, es correcto afirmar que

- I. se realizó una incorporación de productos de origen europeo por parte de los indígenas.
- II. el desarrollo de actividades de intercambio de productos disminuyó los enfrentamientos entre ambos grupos.
- III. los intercambios de productos se tranzaban usualmente en moneda metálica.

- A) Sólo I
- B) Sólo II
- C) Sólo I y II
- D) Sólo II y III
- E) I, II y III

31. La monarquía española instaló en América colonial una serie de instituciones políticas, que le permitieron administrar las diferentes unidades en que se había dividido el territorio americano. En este contexto, el Reino de Chile era una institución político administrativa que recibió el nombre de

- A) Real Audiencia
- B) Intendencia
- C) Gobernación
- D) Departamento
- E) Virreinato

32. La Independencia de Hispanoamérica fue un proceso político que, desde la formación de las Primeras Juntas de Gobierno hasta la última batalla de liberación, determinó que la mayor parte de las colonias españolas del Continente decidiera separarse de los dominios del Rey. El fenómeno descrito se explica, entre otras razones, por

- I. el desarrollo de un sentimiento de identidad nacional entre las elites locales.
- II. la discriminación contra los criollos en el ejercicio del poder.
- III. la influencia de nuevas ideas políticas de carácter liberal.

- A) Sólo I
- B) Sólo III
- C) Sólo I y III
- D) Sólo II y III
- E) I, II y III

33. La instalación de la Primera Junta Nacional de Gobierno en Chile permitió a los criollos iniciar una serie de reformas políticas y administrativas. En este contexto, la medida política más importante que tomó la Primera Junta, para promover un sistema de gobierno republicano en el país, fue

- A) abolir la Real Audiencia después del "Motín de Figueroa".
- B) convocar a elecciones para el Primer Congreso Nacional.
- C) establecer constitucionalmente los requisitos para ser ciudadano.
- D) declarar que Chile era totalmente independiente de España.
- E) formar la Escuadra Nacional para defender el territorio de la República.

34. En Chile se organizó "un régimen republicano, una democracia censitaria muy restringida, un sistema político autoritario y centralizado que privilegiaba el orden como valor social fundamental y defendía la existencia de una sociedad jerarquizada. Por otra parte, el régimen (...) fomentó el desarrollo económico, la educación y la vida cultural."

(Cristián Gazmuri, La historiografía chilena).

La descripción adjunta es característica del sistema político de Chile en el período de

- A) instauración de un régimen independiente (1818 -1823).
- B) ensayos constitucionales (1823 -1830).
- C) predominio del conservadurismo (1831-1861).
- D) aplicación de políticas liberales (1861-1891).
- E) preeminencia del Congreso por sobre el Ejecutivo (1891-1925).

35. Se denominó "Generación del 42" a un movimiento de intelectuales desarrollado en Chile que en la década de 1840 organizó, entre distintas expresiones, una sociedad literaria, de la cual surgieron importantes figuras políticas, tales como Antonio Varas y José Victorino Lastarria. Este movimiento se identificó con el ideal

- A) anarquista
- B) nacionalista
- C) socialista
- D) federal
- E) liberal

36. La palabra "laico" en la Edad Media designaba a los cristianos que no pertenecían a una orden religiosa. En Chile, durante la segunda mitad del siglo XIX, una de las grandes controversias políticas fueron las llamadas "cuestiones teológicas", donde el concepto de "laico" se aplicó al grupo de políticos y pensadores liberales que propusieron

- A) limitar los derechos ciudadanos del Clero nacional.
- B) terminar con la intervención eclesiástica en asuntos civiles.
- C) confiscar los bienes de la Iglesia Católica.
- D) prohibir la creación de colegios confesionales.
- E) expulsar del país a las órdenes sacerdotales.

“Derecho de Sufragio. Santiago, 24 de diciembre de 1864.

Artículo único. El valor de la propiedad inmueble, el capital empleado en alguna especie de giro o de industria, el ejercicio de una industria o arte y el goce de un empleo, renta o usufructo, de la que hablan las partes primera y segunda del artículo 8° de la Constitución consistirán:

En las provincias de Atacama, Coquimbo, Aconcagua, Santiago y Valparaíso, en una propiedad inmueble cuyo valor no baje de mil pesos o un capital en giro de dos mil o el ejercicio de algún arte o industria, cuya renta sea a lo menos de doscientos pesos anuales.”

(Anguita y Quesney, Leyes promulgadas en Chile, 1810-1901).

37. Acorde al texto anterior, hacia 1864 se mantenía en Chile el “sufragio censitario”, lo que implicaba la existencia de

- I. un reducido universo electoral.
- II. fuertes movilizaciones populares.
- III. un sistema excluyente desde el punto de vista político.

- A) Sólo I
- B) Sólo III
- C) Sólo I y II
- D) Sólo I y III
- E) Sólo II y III

38. Durante la segunda mitad del siglo XIX uno de los temas más polémicos en la política chilena fue el proceso de secularización del Estado. En este contexto, el Partido Liberal fue un ferviente defensor del Estado laico, en abierta contradicción a los postulados del Partido

- A) Comunista
- B) Socialista
- C) Conservador
- D) Demócrata
- E) Radical

39. El siglo XIX fue un período fundacional para la historia de la República de Chile. Respecto de la experiencia histórica del país en este período, es correcto realizar la(s) siguiente(s) afirmación(es):

- I. se configuró gran parte del territorio actual.
- II. se afianzó un régimen republicano independiente.
- III. se resolvieron los problemas socio-económicos más urgentes del país.

- A) Solo I
- B) Solo II
- C) Solo I y II
- D) Solo I y III
- E) Solo II y III

40. Hacia mediados del siglo XIX, en la economía chilena se adoptó un modelo que puede ser definido como “primario exportador”, es decir, fundado en la exportación de productos derivados de la minería y la agricultura, cuyo dinamismo estuvo dado por el comercio exterior. Respecto de las características de esta economía, es posible afirmar que

- I. Una parte importante del comercio de importación y exportación estuvo controlado por empresas extranjeras.
- II. El Estado intervino directamente en las actividades productivas a través de la creación de empresas públicas.
- III. El principal producto de exportación agrícola fue el trigo.

- A) Sólo I
- B) Sólo II
- C) Sólo I y II
- D) Sólo I y III
- E) I, II y III

“Explicarte la ruina de mi padre sería referirte una historia que se repite todos los días en el comercio: buques perdidos con grandes cargamentos, trigo malbaratado en California, esa mina de pocos y ruina de tantos! En fin, los percances de las especulaciones mercantiles. Aquella noticia me entristeció por mi padre. [...] ¡Yo poseía setenta millones de felicidad, porque Matilde me amaba! ¿Qué podía importarme la pérdida de quinientos o seiscientos mil pesos?”

(Alberto Blest Gana, Martín Rivas).

41. El fragmento anterior relata una situación particular relativa a la época del auge de exportaciones de trigo chileno a California y Australia, a mediados del siglo XIX. Al respecto, se puede inferir que este auge económico se caracterizó, entre otros aspectos, por

- I. la existencia de frecuentes riesgos para los exportadores nacionales.
- II. el enriquecimiento de la mayor parte de la población chilena.
- III. la vulnerabilidad de los productores trigueros a la pérdida de su capital.

- A) Sólo I
- B) Sólo II
- C) Sólo I y II
- D) Sólo I y III
- E) Sólo II y III

42. Entre los aspectos que caracterizaron el desarrollo histórico del último tercio del siglo XIX en Chile se puede destacar, en lo económico, la existencia de un período de auge y otros de crisis profundas. Con respecto al período de auge es correcto afirmar que

- A) se produjo una gran diversificación de las exportaciones.
- B) los bancos estuvieron administrados por el Estado.
- C) la exportación de un producto fue la base del crecimiento económico.
- D) los gobiernos consiguieron apoyo externo para fomentar la industria.
- E) se generó un acuerdo político para potenciar el empleo.

“Antes de entrar a cualquier faena, el mayordomo o en su defecto el zota, indicará a los peones el trabajo que les corresponde exhortándolos que trabajen bien y con empeño, sin que sea necesario reconvenirlos repetidas veces [...]. Los trabajos se empiezan al salir el sol. A las nueve de la mañana se suspenden por media hora, para que almuercen los peones. A las doce del día se suspenden por igual tiempo para que coman, y no se vuelven a suspender hasta que el sol haya entrado enteramente.”

(M. J. Balmaceda, Manual del Hacendado Chileno).

43. La cita anterior hace referencia al modo de trabajo en las faenas agrícolas, durante la segunda mitad del siglo XIX, en un contexto de crisis internacional que afectó también a la agricultura chilena. A partir de estos antecedentes, se puede concluir que los hacendados chilenos intentaban

- I. aumentar la productividad de la mano de obra.
- II. promover formas de organización sindical campesina.
- III. controlar a los trabajadores de las haciendas.

- A) Sólo II
- B) Sólo I y II
- C) Sólo I y III
- D) Sólo II y III
- E) I, II y III

44. Al controlar las provincias de Tarapacá y Antofagasta, como consecuencia de la Guerra del Pacífico, el gobierno chileno debió resolver el problema de la propiedad de las empresas salitreras. Para estos efectos, las autoridades del Estado chileno, inspiradas en el liberalismo económico, decidieron

- A) reconocer los derechos a empresarios particulares sobre los yacimientos.
- B) crear numerosas empresas mixtas para la explotación del mineral.
- C) fundar una gran empresa estatal que monopolizara la producción de salitre.
- D) permitir la explotación de las salitreras sólo a empresarios nacionales.
- E) estatizar las empresas dedicadas a la exportación de salitre.

45. La economía del salitre en Chile, durante la segunda mitad del siglo XIX, estuvo principalmente en manos de extranjeros. Sin embargo, benefició a gran parte del sistema económico nacional de diversas maneras, entre las que destaca

- A) el incremento en los ingresos fiscales por concepto de impuestos.
- B) la creación de la industria productora de bienes tecnológicos.
- C) la disminución de las importaciones de bienes de consumo.
- D) el mejoramiento en las condiciones laborales de los trabajadores.
- E) la diversificación de la industria exportadora.

“Si [...] preferimos consumir la producción nacional, aunque no sea tan perfecta y acabada como la extranjera; si el agricultor, el minero y el fabricante, construyen sus útiles o sus máquinas de posible construcción chilena en las maestranzas del país; si ensanchamos y hacemos más variada la producción de la materia prima [...] si el Estado, conservando el nivel de sus rentas y de sus gastos, dedica una porción de su riqueza a la protección de la industria nacional, sosteniéndola y alimentándola en sus primeras pruebas [...] y concurrimos todos, individual y colectivamente, a producir más y mejor y a consumir lo que producimos, una savia más fecunda circulará por el organismo industrial de la República, y un mayor grado de riqueza y de bienestar nos dará la posesión de ese bien supremo de pueblo trabajador y honrado: vivir y vestirnos por nosotros mismos.”

(José Manuel Balmaceda, Discurso de candidatura presidencial, 1886).

46. En este discurso, en materia económica, Balmaceda proponía

- I. el fin del modelo de economía exportadora.
- II. la autonomía productiva y de consumo.
- III. una mayor intervención estatal.

- A) Solo I
- B) Solo II
- C) Solo I y II
- D) Solo I y III
- E) Solo II y III

47. El Presidente José Manuel Balmaceda, en enero de 1891, decretó la prórroga de las leyes de Presupuesto y Fuerzas Armadas del año anterior, dado que el Congreso Nacional no las había despachado oportunamente. Los opositores al Presidente de la República consideraron que esta medida significaba

- A) adoptar por parte del Ejecutivo un gobierno parlamentario.
- B) establecer una dictadura de hecho.
- C) reorganizar las Fuerzas Armadas.
- D) aceptar una política económica proteccionista.
- E) poner en marcha una nueva política presupuestaria.

48. La “rotativa ministerial” fue un fenómeno político común en Chile durante la llamada República Parlamentaria. Esta situación fue una consecuencia de las interpelaciones y censuras parlamentarias a los ministros del Gabinete. En este contexto, la “rotativa ministerial” fue una expresión de

- A) la existencia de sólidas alianzas políticas.
- B) el debilitamiento del Poder Ejecutivo ante el Congreso.
- C) la permanente intervención política de las Fuerzas Armadas.
- D) el autoritarismo del Presidente de la República.
- E) las constantes protestas de los obreros ante el Gobierno.

“A los electores de la comuna de San Francisco de Mostazal: ¡Atención! ¡Atención! El mayor de los regalos nunca vistos en Chile. ¡Una vaca lechera con cría al pie, de toro fino! Además de la gratificación que se repartirá a todos los electores que voten por el señor Zañartu, se les dará boleto para tener derecho a entrar a una rifa de una vaca lechera con cría al pie de toro fino que se tirará inmediatamente después de la elección, y al que le toque el número premiado puede llevársela en el acto, dando su contramarca, pues estará de temprano en el pueblo a vista de los electores. Además si el señor Zañartu saca mayor número de votos que los otros candidatos, estos mismos números servirán para una rifa de una yunta de bueyes.”

(Citado en Felipe Portales, Los mitos de la democracia chilena).

49. El párrafo anterior hace mención a una práctica común en la vida política chilena de comienzos del siglo XX, la que fue conocida como

- A) obstrucción parlamentaria
- B) rotativa ministerial
- C) voto de censura
- D) cohecho
- E) nepotismo

POBLACIÓN DEL NORTE GRANDE RESPECTO A LA POBLACIÓN TOTAL DEL PAÍS (1885-1930)

Años	Norte Grande	Total del país
1885	88.305	2.507.380
1895	141.762	2.695.911
1907	234.324	3.231.496
1920	289.569	3.731.573
1930	292.096	4.287.445

(Dirección General de Estadísticas, Resultados del X Censo de la Población)

50. De acuerdo a la tabla adjunta y considerando la Historia de Chile en el período 1885-1930, se puede afirmar que el incremento de población observado en las provincias del Norte Grande se explica, fundamentalmente, por

- A) la alta tasa de inmigración extranjera que llegó a esos territorios.
- B) la llegada de obreros que construyeron el ferrocarril Arica-La Paz.
- C) el descubrimiento de minerales de plata y cobre en la zona.
- D) el auge de la producción de salitre en la región.
- E) la expansión urbana en dichos territorios.

“La desigualdad de las condiciones y de la fortuna nace de la desigualdad natural de talentos, aptitudes y fuerzas; y no está en la mano del hombre corregir esa desigualdad (...) Sabiamente lo ha dispuesto así la Providencia, pues el día que se nivelasen las condiciones y fortunas de los hombres, desaparecería la sociedad, que se funda en la reciprocidad de servicios que se prestan unos a otros.”

(Mariano Casanova, Pastoral del Arzobispo de Santiago, 1891).

- 51.** Los problemas sociales de fines de siglo XIX dieron origen a la llamada “Cuestión Social”. Respecto de ella y en relación al texto adjunto, se puede afirmar que en esa época la Iglesia Católica
- A) defendió la idea de la existencia de un orden divino de la sociedad.
 - B) promovió la explotación capitalista de los trabajadores.
 - C) canalizó la ayuda social a través del Partido Demócrata.
 - D) propició el término de la sociedad de clases.
 - E) apoyó las ideas revolucionarias de las organizaciones obreras.
- 52.** En Chile, desde principios del siglo XX, la propiedad que tenía un patio en común y se destinaba al arrendamiento por piezas o por secciones a personas o familias pertenecientes a los sectores populares urbanos, se conoce con el nombre de
- A) vivienda de emergencia
 - B) rancho
 - C) mediagua
 - D) vivienda social
 - E) conventillo
- 53.** En Chile, durante el período del auge del salitre, los obreros de la pampa tuvieron que enfrentar precarias condiciones de trabajo y de vida junto a sus familias. Esta situación se explica, entre otras causas, por
- A) el bajo aporte de la producción salitrera a la renta nacional.
 - B) la incapacidad de especialización de los trabajadores.
 - C) la falta de protección social de los trabajadores frente a los dueños de las salitreras.
 - D) la escasa disposición al trabajo de los obreros de la pampa.
 - E) la poca cantidad de mano de obra que demandaba la extracción del nitrato.
- 54.** En los primeros años del siglo XX, comenzaron a tener mayor presencia los sectores medios en Chile. Luego se transformaron en importantes actores de los procesos políticos, económicos y sociales de gran parte del siglo. El surgimiento de estos sectores se encuentra directamente relacionado con
- A) la ampliación del sistema educacional.
 - B) la manifestación de las dificultades socioeconómicas.
 - C) la consolidación del latifundio.
 - D) el apogeo de la industria del salitre.
 - E) la eliminación del voto censitario.

- 55.** Bajo la presidencia de Arturo Alessandri Palma, se redactó la Constitución de 1925 que entró en plena vigencia a partir de 1932. Uno de los objetivos que tuvo esta Carta Fundamental chilena, fue
- A) perfeccionar el Régimen Parlamentario existente desde 1891.
 - B) restablecer el predominio del Poder Ejecutivo sobre los otros poderes del Estado.
 - C) restringir las garantías constitucionales de salud, trabajo y previsión social.
 - D) favorecer la descentralización del poder creando un Sistema Federal.
 - E) imponer en el país un nuevo régimen político de partido único.
- 56.** Durante la década de 1920, la radio y el cine adquirieron mayor presencia en la realidad urbana chilena. Estos medios de comunicación y el mayor uso del automóvil produjeron cambios en la vida cotidiana y en la sociabilidad en las ciudades del país. Las mujeres comenzaron a acortar sus vestidos y dejaron de usar mantilla sobre la cabeza. Estos cambios en los patrones culturales urbanos en Chile se deben, entre otros aspectos,
- A) a la penetración de las pautas culturales estadounidenses.
 - B) al legado de los movimientos independentistas hispanoamericanos.
 - C) al inicio de las exportaciones salitreras a Europa.
 - D) al proceso de migración desde el campo a la ciudad.
 - E) a las manifestaciones de la Gran Crisis Económica Mundial.
- 57.** Entre los cambios culturales que presenta el siglo XX para Chile, destacan aquellos que se relacionan con las transformaciones sociales y la participación política, ya que en la primera mitad del siglo se produjo
- A) la transformación del campesinado.
 - B) la desaparición de la oligarquía.
 - C) el debilitamiento de los sectores medios.
 - D) el aumento de la emigración a Europa.
 - E) el fortalecimiento de la clase obrera.
- 58.** La crisis de la Bolsa de Valores de Wall Street en 1929, provocó graves caídas de las economías a nivel mundial, entre las cuales se cuenta la de Chile como una de las más afectadas. Ello se explica, fundamentalmente, por
- A) la política de sustitución de importaciones.
 - B) la inexistencia de un proceso especulativo en el país.
 - C) la sobreproducción de la industria nacional.
 - D) la gran dependencia del país del mercado exterior.
 - E) la excesiva intervención del Estado en la actividad económica nacional.

“Por ahora el esfuerzo se ha dirigido hacia obras básicas fundamentales para lograr técnicamente nuestra transformación económica. Me refiero a la electrificación, a la industria siderúrgica, al descubrimiento y explotación del petróleo, a la fundición de minerales, a la refinería electrolítica de cobre y a la irrigación y mecanización de las faenas agrícolas.”

(Gabriel González Videla, Discursos).

- 59.** En el párrafo anterior, el Presidente Gabriel González se refiere al desarrollo de un proyecto económico en Chile que fue implementado durante los gobiernos radicales. Este proyecto consistía en la transformación
- A) del sistema financiero que existía en las grandes ciudades.
 - B) de la producción de energía y bienes industriales en el país.
 - C) de la distribución de la población económicamente activa en las regiones.
 - D) del tipo de exportaciones a los mercados latinoamericanos.
 - E) de las empresas privadas en empresas controladas por el Estado.
- 60.** La población urbana en Chile, en la década de 1940, era de un 53% y en la de 1960, alcanzaba un 68%. La explicación a este fenómeno de urbanización de la población en Chile se explica entre otras causas, fundamentalmente, por
- A) la búsqueda de nuevas oportunidades de trabajo por parte de la población rural.
 - B) el aumento de la tasa de natalidad de las principales ciudades del país.
 - C) la rápida tecnologización de la actividad agrícola.
 - D) la disminución de la mortalidad de la población urbana.
 - E) la incorporación de un importante número de población extranjera a las ciudades.
- 61.** La producción de petróleo en Chile comenzó en 1945 en la zona de Magallanes. Entre 1950 y 1973, su explotación aumentó considerablemente. En este período, la producción del petróleo chileno contribuyó a
- A) terminar la dependencia petrolera del país respecto del mercado externo.
 - B) cubrir totalmente las necesidades de la industria y del parque automotriz.
 - C) desarrollar diversas actividades económicas en el país.
 - D) convertir a Chile en un país exportador de hidrocarburos.
 - E) solucionar los problemas derivados del subdesarrollo en el país.
- 62.** La década de 1960, en Chile, estuvo caracterizada por una serie de transformaciones en el ámbito social y político. Relacionado con ello, se produjo un notable avance en la forma de transmitir ideas e información. Este cambio estuvo representado por el establecimiento de
- A) las primeras cadenas nacionales de periódicos.
 - B) una red de teléfonos satelitales.
 - C) los primeros canales de televisión.
 - D) una red nacional de telégrafos.
 - E) las primeras conexiones de Internet.

“Este contexto confrontacional, que en pocos años tornaría absurdamente imposible toda posición intermedia, repercutía entonces en la vida y acción de todo chileno y, obviamente, en la producción intelectual de sus artistas. Los músicos, sus creadores y sus intérpretes se sentirían adscritos [...] a alguno de los campos ideológicos. Es así como la Nueva Canción Chilena representaría a las izquierdas y el resto, especialmente el «neofolclore», a las derechas.”

(Luis Advis, Clásicos de Música Popular Chilena).

63. El texto indica una característica de la creación cultural y cómo ella reflejaba la situación política de Chile en un momento histórico determinado. El momento histórico aludido fue

- A) anterior a la promulgación de la Constitución de 1925.
- B) durante el período de inestabilidad política en la década de 1930.
- C) a lo largo de los gobiernos radicales en la década de 1940.
- D) desde la década de 1960 hasta la crisis democrática de 1973.
- E) después de la normalización democrática de 1990.

64. Entre los variados procesos históricos de orden político y social que se desarrollaron a lo largo del siglo XX en Chile hasta 1970, es correcto mencionar,

- I. la pérdida de protagonismo de la clase media en la vida nacional.
- II. la incorporación de la mujer en la participación política nacional.
- III. la consolidación del régimen presidencialista de gobierno.

- A) Sólo II
- B) Sólo III
- C) Sólo I y II
- D) Sólo II y III
- E) I, II y III

IV. EL MUNDO EN PERSPECTIVA HISTÓRICA

Población de Inglaterra, Francia, Alemania y Rusia (en millones de personas).

	Inglaterra	Francia	Alemania	Rusia
1840-1841	18,5	34,2	31,4	62,4
1850-1851	20,8	35,8	34,0	68,5
1860-1861	23,1	37,4	36,2	74,1
1870-1871	26,1	36,1	40,8	84,5
1880-1881	29,7	37,7	45,2	97,7
1890-1891	33,1	38,3	49,4	117,8
1900-1901	37,0	39,0	56,4	132,9
1910-1911	40,8	39,6	64,9	160,7

Fuente: B. R. Mitchel.

65. A partir de la observación de los datos estadísticos, es correcto afirmar que:

- I. Salvo Francia, los demás países al menos duplicaron su población en el período.
- II. Rusia fue el país donde más aumentó la población.
- III. En todos los países la población creció en el periodo.

- A) Sólo I
- B) Sólo II
- C) Sólo I y II
- D) Sólo I y III
- E) I, II y III

66. El período que va entre 1870 y 1914 comprende el panorama mundial previo al estallido de la Primera Guerra Mundial; éste preámbulo al conflicto se caracterizó, entre otros elementos, por:

- I. La competencia económica y armamentística entre las potencias europeas.
- II. El reparto territorial entre unas pocas potencias y el desarrollo de zonas de fricción.
- III. La hegemonía de EE.UU. en las relaciones económicas internacionales mundiales.

- A) Sólo I
- B) Sólo II
- C) Sólo I y II
- D) Sólo II y III
- E) I, II y III

67. A partir de la Primera Guerra Mundial hay grandes cambios provocados por la industrialización, se llegó a decir que *"cambió para siempre la forma de hacer la guerra"*, entre el o los elementos aportados por la industrialización a la guerra podemos mencionar:

- I. El uso masivo de artillería, ametralladoras, vehículos blindados e incluso aeroplanos
- II. El uso de caballos como medio de transporte de tropas.
- III. El uso de armas químicas.

- A) Sólo I
- B) Sólo III
- C) Sólo I y II
- D) Sólo I y III
- E) I, II y III

68. La Revolución Rusa de octubre de 1917 constituye un proceso clave para la comprensión del mundo contemporáneo. De los siguientes enunciados, se presenta(n) como antecedente(s) de este acontecimiento

- I. la permanencia de un gobierno provisional, que no respondía a las demandas del pueblo ruso.
- II. la difícil situación económica y social, derivada de la participación rusa en la guerra.
- III. la existencia de un partido burgués que condujo la movilización de las masas.

- A) Sólo I
- B) Sólo I y II
- C) Sólo I y III
- D) Sólo II y III
- E) I, II y III

"El trabajador medio se siente esclavo del gobierno, y no tiene la impresión de haberse liberado de una tiranía [...]. El pan que gana con el sudor de su frente, la conscripción industrial, la prohibición de las huelgas, la cárcel para los holgazanes, la disminución de las raciones, ya insuficientes, [...] un ejército de espías dispuestos a denunciar al que se aleja de la ortodoxia [...]; esa es la realidad de un sistema que dice gobernar en nombre del proletariado."

(Bertrand Russell, *Práctica y teoría del bolchevismo*).

69. De acuerdo a los elementos contenidos en el texto precedente, se puede afirmar que la crítica realizada por el autor, en la década de 1920, estuvo dirigida al régimen

- A) fascista en Italia.
- B) socialista en la Unión Soviética.
- C) nacionalsocialista en Alemania.
- D) nacionalista en España.
- E) comunista en la República Popular China.

- 70.** Los sistemas políticos, comunista y nacionalsocialista, en la Europa del siglo XX, presentaron profundas diferencias en sus planteamientos ideológicos. Sin embargo, hubo ideas en las que hubo coincidencia, como:
- A) La masificación e incentivo de promover la práctica de creencias religiosas.
 - B) La imposición de una raza superior como parte del nuevo orden.
 - C) La existencia de un partido único que dirige el gobierno.
 - D) Contar con líderes que buscan el beneficio colectivo e igualitario de la sociedad.
 - E) Imponer el control del estado de los medios de producción.
- 71.** Al término de la Segunda Guerra Mundial surgió un nuevo panorama político internacional, entre cuyos aspectos se puede(n) mencionar
- I. la formación de un mundo bipolar dominado por Estados Unidos y la Unión Soviética.
 - II. la interrupción de los esfuerzos por mantener la paz a través de la Organización de las Naciones Unidas.
 - III. el fin de la supremacía de Europa occidental en el mundo.
- A) Sólo III
 - B) Sólo I y II
 - C) Sólo I y III
 - D) Sólo II y III
 - E) I, II y III
- 72.** La Segunda Guerra Mundial produjo un enorme debilitamiento de las economías europeas, por lo que algunos países recibieron la ayuda de EE.UU., única nación que disponía de los recursos necesarios para invertir en su recuperación. Para ello EE.UU. puso en marcha el año 1947 el Programa de Recuperación Europea, más conocido con el nombre de
- A) Plan Marshall
 - B) Alianza para el Progreso
 - C) Comunidad Económica Europea
 - D) Organización del Tratado del Atlántico Norte
 - E) Pacto de Varsovia
- 73.** El término Guerra Fría, alude a la relación existente entre Estados Unidos y la Unión Soviética desde fines de la Segunda Guerra Mundial. A pesar de su antagonismo evidente, la relación entre ambas potencias se caracterizó por la
- A) colaboración tecnológica entre ambos países.
 - B) utilización de compensaciones económicas para solucionar sus diferencias.
 - C) inexistencia de enfrentamientos bélicos directos.
 - D) neutralidad que asumieron en las guerras de la segunda mitad del siglo XX.
 - E) oposición a los procesos de descolonización en Asia y África.

“La economía de guerra facilitó una posición cómoda a decenas de miles de burócratas vestidos de uniforme que van a la oficina cada día a construir armas atómicas o a planificar la guerra atómica; a millones de trabajadores cuyos puestos de trabajo dependen del sistema de terrorismo nuclear, a científicos e ingenieros pagados para buscar ‘la solución tecnológica’ definitiva [...]; a guerreros intelectuales que venden amenazas y bendicen guerras.”

(Richard Barnett, citado en Eric Hobsbawm, Historia del Siglo XX)

74. La Guerra Fría enfrentó fundamentalmente a EE.UU. y la URSS desde el fin de la Segunda Guerra Mundial. Del texto precedente y las características del período aludido, se pueden distinguir algunos rasgos de dicho enfrentamiento. Entre ellos se destaca(n) el (los) siguiente(s)

- I. el contenido ideológico que tuvo el conflicto.
- II. los numerosos enfrentamientos bélicos directos entre ambas potencias.
- III. los elevados costos económicos que implicó el conflicto.

- A) Sólo I
- B) Sólo I y II
- C) Sólo I y III
- D) Sólo II y III
- E) I, II y III

75. Desde fines del siglo XVIII y principios del siglo XIX, se produjo en el mundo, un conjunto de procesos que tienen como resultado la independencia, de la mayoría de los países del continente americano. En el siglo XX y, sobre todo después de la Segunda Guerra Mundial, también ocurre el fenómeno de la independencia de las posesiones europeas en Asia y África. Ambos procesos, si bien ocurrieron en distintos períodos y tuvieron características específicas diferentes, corresponden al fenómeno de

- A) multipolarización
- B) mundialización
- C) bipolarización
- D) globalización
- E) descolonización

76. Durante la segunda mitad del siglo XX, Latinoamérica mantenía algunos de los problemas estructurales que habían sido una constante desde la Independencia. Entre estos problemas se puede(n) mencionar

- I. crisis derivadas de la fuerte dependencia económica.
- II. frecuentes guerras por problemas fronterizos.
- III. conflictos sociales generados por la desigualdad económica.

- A) Sólo I
- B) Sólo II
- C) Sólo I y II
- D) Sólo I y III
- E) Sólo II y III

77. Nación latinoamericana que se constituyó en una pieza clave en las relaciones internacionales durante la Guerra Fría, tanto por su cercanía geográfica respecto de EE.UU. como por su cercanía ideológica con la URSS. Lo anterior se refiere a

- A) Nicaragua
- B) Cuba
- C) Guatemala
- D) Panamá
- E) México

78. Uno de los conflictos bélicos más destacados de la Guerra Fría fue la Guerra de Corea en la década de 1950, en la que Estados Unidos participó directamente con soldados y armamentos. En este contexto, en la década de 1960, Estados Unidos participó de la misma manera en el conflicto conocido como

- A) Guerra del Golfo
- B) Independencia de Argelia
- C) Guerra de Vietnam
- D) Guerra de los Seis Días
- E) Guerra de los Balcanes

PROCESO DE INTEGRACIÓN EUROPEA: PERÍODO 1951 – 2002

1951	Creación de la Comunidad Europea del Carbón y del Acero
1955	Creación del emblema: Bandera azul con estrellas color oro
1957	Creación de la Comunidad Económica Europea
1967	Fusión de entidades económicas
1993	Tratado de Maastricht: Creación formal de la Unión Europea
1995	Llega a contar con 15 miembros
2001	Tratado de Niza: Nueva distribución del poder
2002	Comienza a circular la moneda comunitaria

79. La tabla adjunta muestra algunos acontecimientos destacados ocurridos entre los años 1951 y 2002, que aluden al proceso de integración de Europa. A partir de los contenidos de la tabla y en relación a la formación de la Unión Europea, se puede señalar que

- A) la mayoría de las naciones ingresó automáticamente a dicha Comunidad.
- B) los objetivos originales de la organización fueron exclusivamente políticos.
- C) la unidad de Europa se ha ido consolidando como bloque continental.
- D) entre los 15 miembros vigentes en 1995 estaba Rusia.
- E) en este período se incorporaron todos los países europeos.

80. En el ámbito de la Guerra Fría se produjo la división del mundo en dos zonas de influencia, liderada una de ellas por EE.UU. y la otra por la URSS. Esta última potencia impuso su dominio sobre la Europa del Este, siendo una de las consecuencias fundamentales de ello la división de Alemania en dos Estados. La Alemania dividida se reunificó en 1990 y entre los hechos que contribuyeron a ello, el de mayor simbolismo fue

- A) la conformación de la Unión Europea.
- B) el establecimiento del puente aéreo a Berlín.
- C) la consolidación de la Cortina de Hierro.
- D) la caída del Muro de Berlín.
- E) el fin del mundo multipolar.

Claves de Respuesta

1 C	21 C	41 D	61 A
2 C	22 D	42 C	62 C
3 B	23 C	43 C	63 D
4 A	24 E	44 A	64 D
5 C	25 D	45 A	65 E
6 C	26 C	46 E	66 C
7 D	27 B	47 B	67 D
8 B	28 B	48 B	68 B
9 A	29 D	49 D	69 B
10 A	30 C	50 D	70 C
11 E	31 C	51 A	71 C
12 B	32 E	52 E	72 A
13 E	33 B	53 C	73 C
14 C	34 C	54 A	74 C
15 B	35 E	55 B	75 E
16 B	36 B	56 A	76 D
17 E	37 D	57 E	77 B
18 D	38 C	58 D	78 C
19 A	39 C	59 B	79 C
20 C	40 D	60 A	80 D